

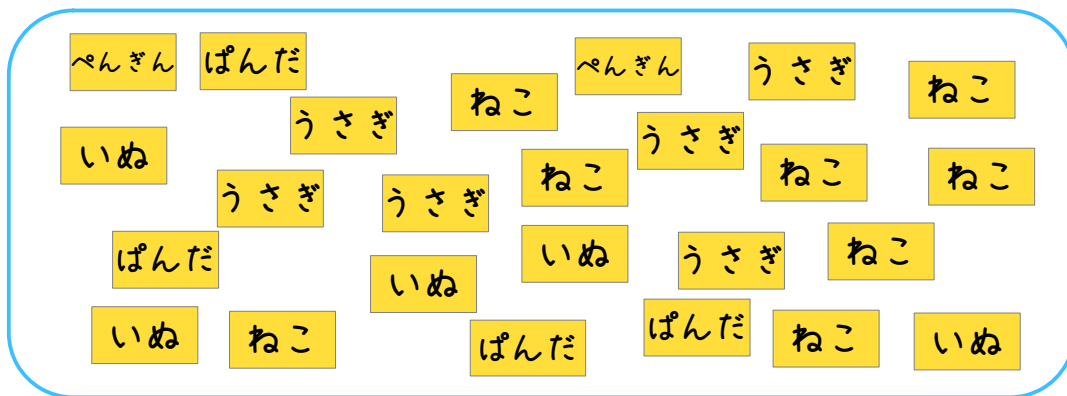
ぼうグラフと表 ①

月 日

名前 _____

1

好きな動物カードとそれぞれの数を、表に整理して
わかりやすく表しましょう。



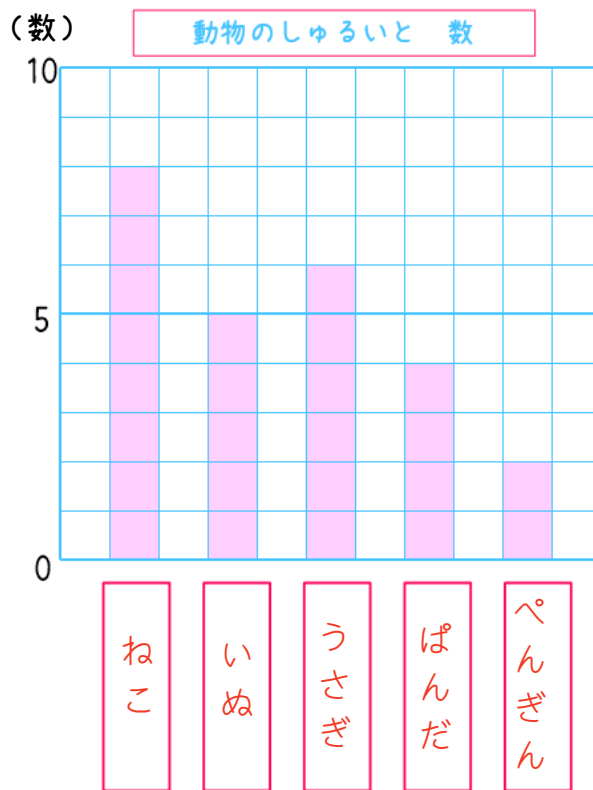
(1) 「正」の字を使って数を調べ、
表に書きましょう。

ねこ	正 下
いぬ	正
うさぎ	正 -
ぱんだ	正
ペンギン	正

(2) 「正」の字を使って表した数を
数字になおし、表に書きましょう。

動物のしゅるいと数	
しゅるい	数
ねこ	8
いぬ	5
うさぎ	6
ぱんだ	4
ペンギン	2
合計	25

(3) 整理した表をグラフに表し
ました。□にあてはまる
動物を書きましょう。





ぼうグラフと表 ②

月 日

名前 _____

1

好きなスポーツとそれぞれの人数を、表に整理してわかりやすく表しましょう。

野球	その他	野球	野球	水泳	野球	サッカー	サッカー
野球	野球	サッカー	その他	サッカー	水泳	テニス	野球
テニス	水泳	サッカー	サッカー	テニス	水泳	その他	その他
野球	その他	水泳	その他	その他	野球	野球	その他
サッカー	野球	サッカー	野球	サッカー	野球	その他	その他

(1) 「正」の字を使って人数を調べ、表に書きましょう。

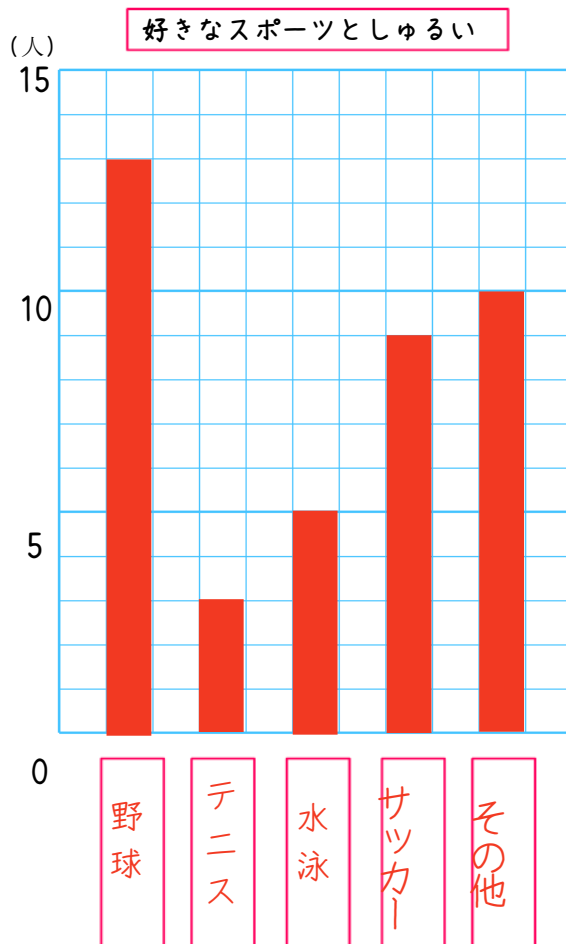
野球	正 正 下
テニス	下
水泳	正
サッカー	正 正
その他	正 正

(2) 「正」の字を使って表した数を数字になおし、表に書きましょう。

スポーツのしゅるいと人数

しゅるい	人数
野球	13
テニス	3
水泳	5
サッカー	9
その他	10
合計	40

(3) グラフに表しましょう。





ぼうグラフと表 ③

月 日

名前 _____

1 右のグラフは、はなさんたちが調べた自動車の台数を表したものです。

(1) ぼうの長さは何を表しているでしょうか。

自動車の台数

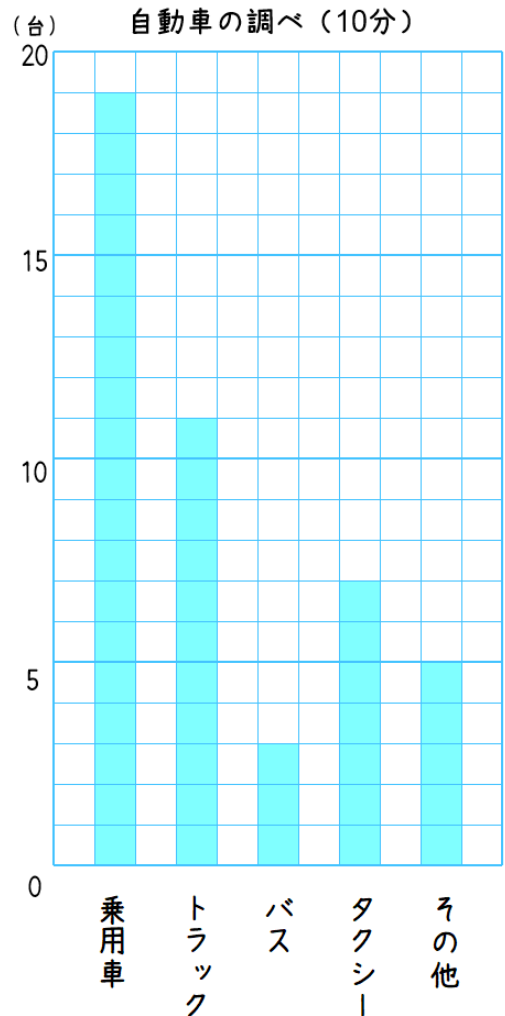
(2) グラフの1目もり分は、何台表しているでしょうか。

1台

(3) 1番多い台数と少ない台数のちがいは何台でしょうか。

16台

(4) ぼうグラフを調べて、表に数を書いてみましょう。



自動車	乗用車	トラック	バス	タクシー	その他	合計
台数	19	11	3	7	5	45

2 下の表の、空いている場所に数を入れましょう。

時間べつ 自動車調べ (30分)

時間 \ 自動車	乗用車	トラック	バス	タクシー	その他	合計
あさ	23	7	4	2	8	44
ひる	15	16	2	7	4	44
よる	29	9	2	12	3	55
合計	67	32	8	21	15	143



ぼうグラフと表 ④

月 日

名前 _____

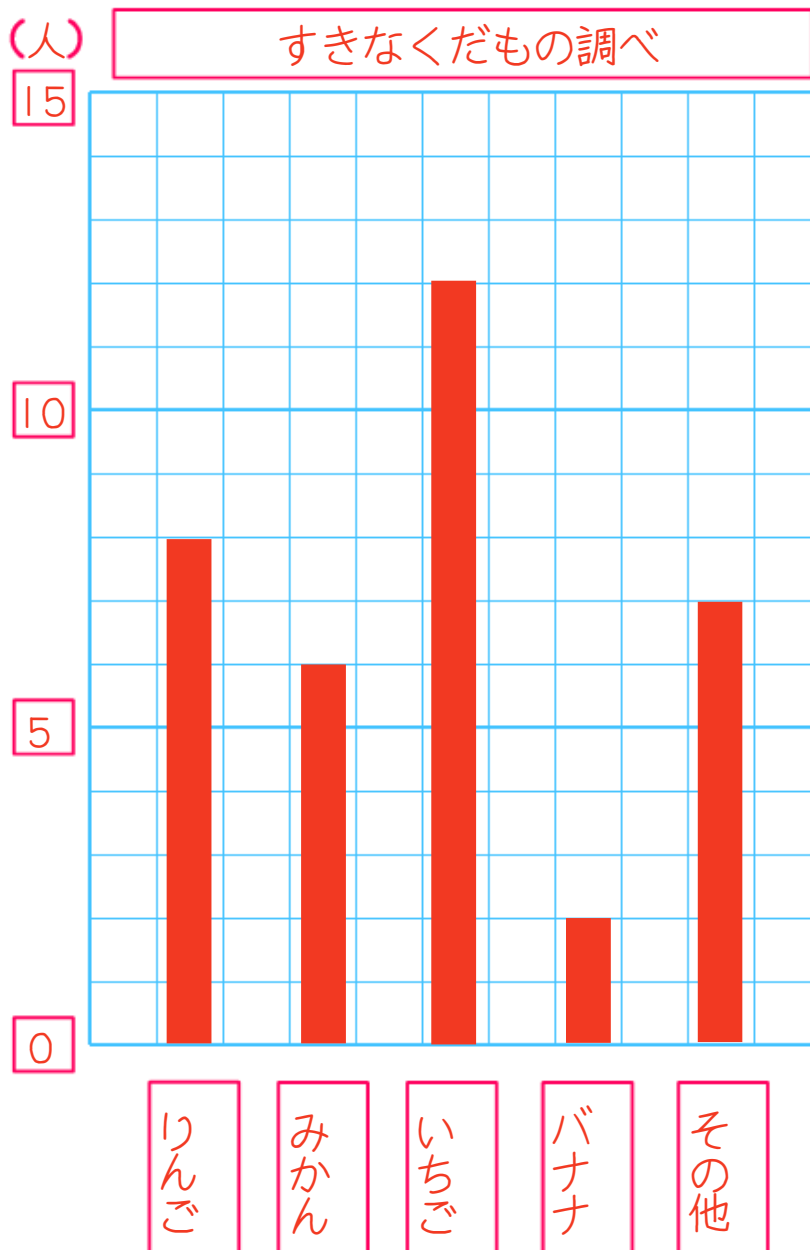
1

下の表は、3年2組で好きなくだものを調べたものです。

すきなくだもの調べ

くだもの	りんご	みかん	いちご	バナナ	その他	合計
人数	8	6	12	2	7	35

ぼうグラフに表しましょう。





♥ すきるまドリル 3年生

ぼうグラフと表 ⑤

月 日

名前 _____

1

下の表は、3年3組で好きな色を調べたものです。

好きな色調べ

くだもの	あお	あか	みどり	ピンク	その他	合計
人数	9	5	3	12	7	36

ぼうグラフに表しましょう。

