

はこの形 ①

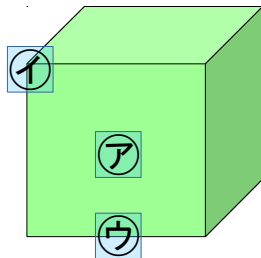
月 日

名前 _____

1

つぎの ㉠~㉣ の ことを 何と いますか。

の中から あてはまる ^{もじ}文字を えらびましよう。



㉠

面

㉡

ちよう点

㉢

へん

面

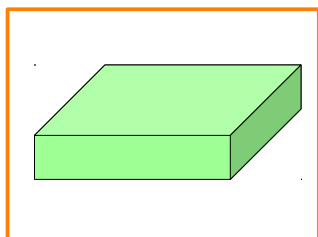
へん

ちよう点

はこ

2

はこの形を しらべて、 あてはまる 数を かきましよう。



面の数は ぜんぶで こ

へんの数は ぜんぶで こ

ちよう点の数は ぜんぶで こ

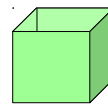
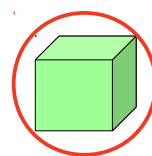
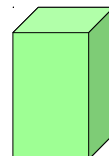

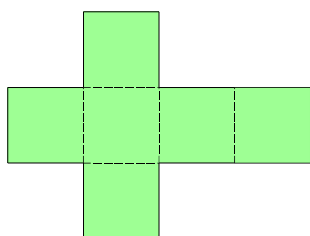
そのうち の数は こ

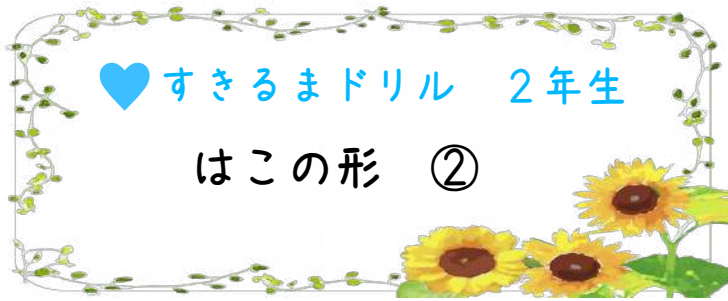
の数は こ

見えない ところも
ちゃんと しらべて、
数えましよう。

3

く た 組み立てると どの はこが できますか。○で かこみましよう。



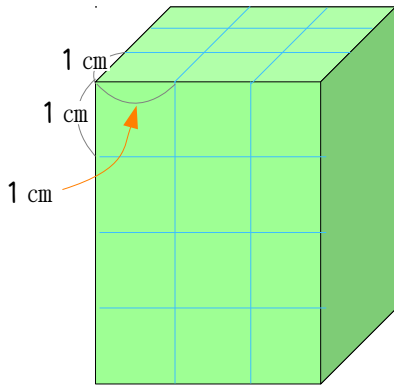


月 日

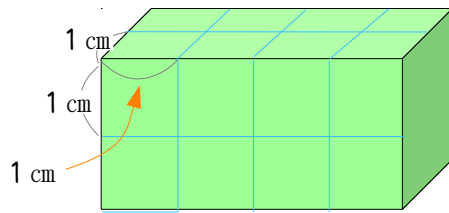
名前

1 下の図のような はこをつくります。どの 四角形が
いくつずつ いるでしょう。㊦~㊨ の中から えらびましょう。

(1)



(2)

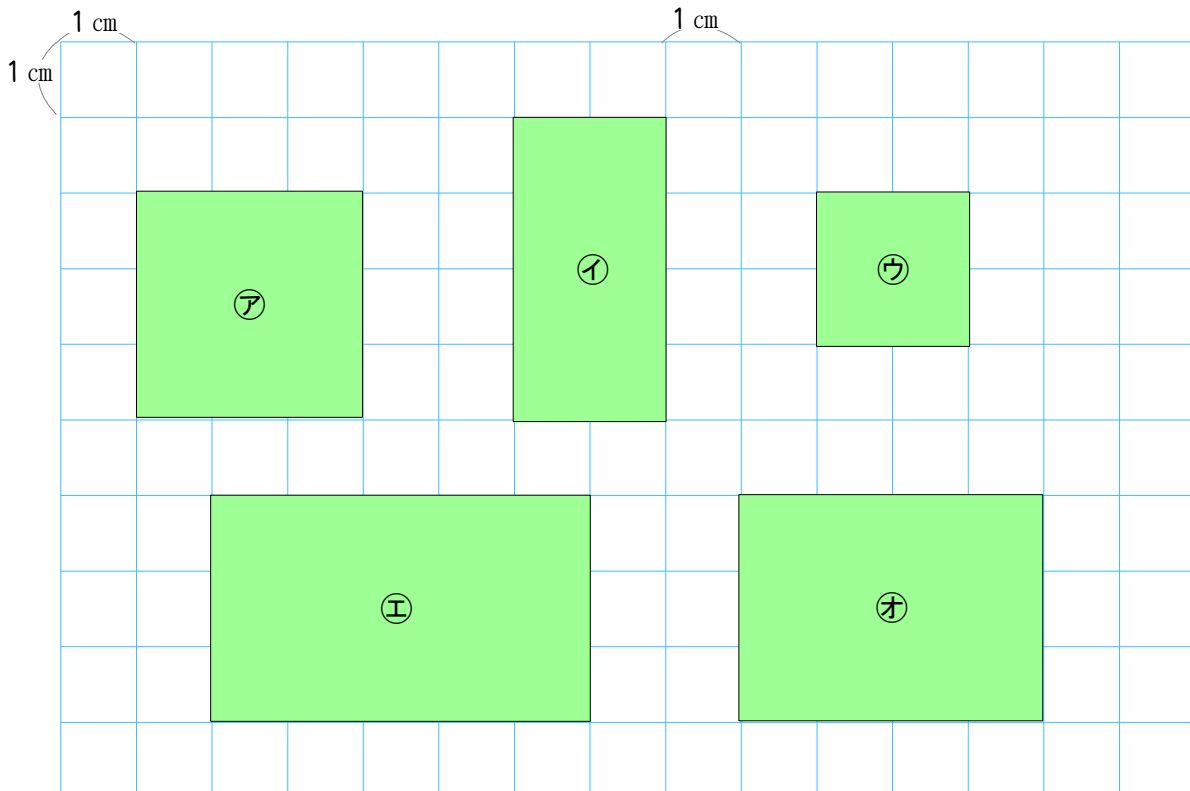


こたえ

㊦ が 2 こ
㊨ が 4 こ

こたえ

㊧ が 2 こ
㊩ が 4 こ



はこの形 ③

月 日

名前

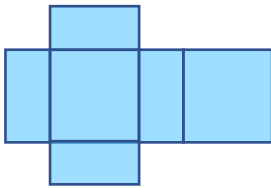
1 下の①, ②, ③のような形のはこをつくるにはそれぞれア~カのどの図でできますか。

①

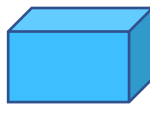


(ウ)

ア

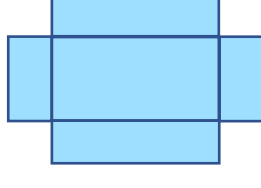


②



(カ)

イ

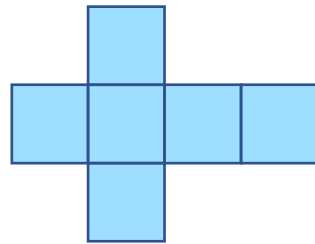


③

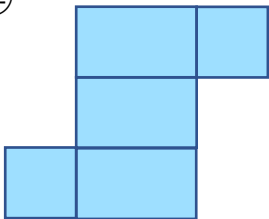


(オ)

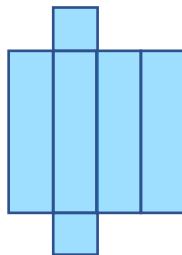
ウ



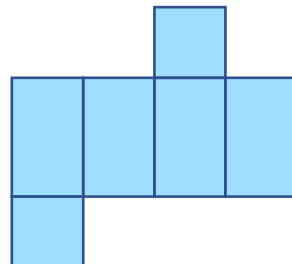
エ



オ

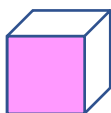


カ

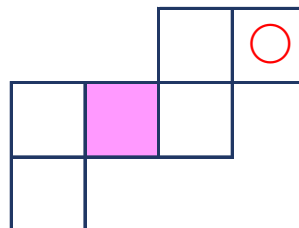


2 下のような形をしたはこがあります。つぎの図はそのはこをひらいた形です。色のついためんむかいはうめんむに○のしるしをつけましょう。

はこの図



ひらいた図に○のしるしをつけましょう



わからなかったらこの図ではこを作ろう!