



のこりはいくつ ①


がつ にち

なまえ



1


のこりは いくつに なるでしょう。

(1)  ボールが 5こ あります →  2こ とると → のこりは いくつ?




 とった かずだけ ○でかこもう。

しき $5 - 2 = 3$ こたえ (3 こ)

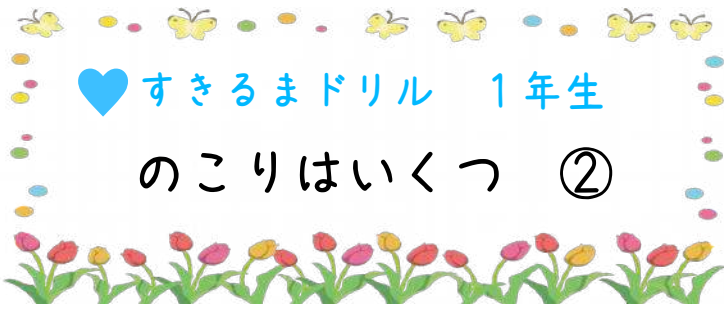
(2)  8こ あります →  4こ とると → のこりは いくつ?

 とった かずだけ ○でかこもう。

しき ($8 - 4 = 4$) こたえ (4 こ)

(3)  はな ちゃんが  を 6こ もっています。  まる くん に 2こ あげました。 のこりは いくつでしょう。




しき ($6 - 2 = 4$) こたえ (4 こ)





がつ にち


なまえ

1 のこりは いくつに なるでしょう。


- (1)  ^{はな} ちゃんが  ^{びーだま} を 5こ もっています。  ^{まる} くん
3こ あげました。のこりは いくつでしょう。

しき $5 - 3 = 2$ こたえ (9 こ)


 } ^{3こ} あげるよ  } ^{のこった} かずだよ

- (2)  が 8こ ありました。5こ たべました。
のこりは なんこに なるでしょう。

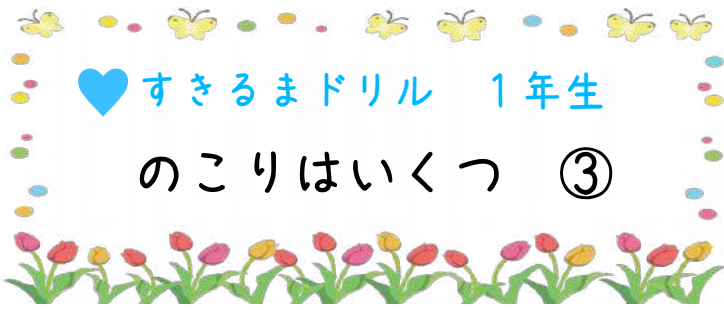
しき ($8 - 5 = 3$) こたえ (3 こ)

- (3)  ^{ばす} に 6にん ひとが のっていました。ふたり
おりました。のこりは なんにんでしょう。

しき ($6 - 2 = 4$) こたえ (4 にん)

- (4)  が 3こ ありました。みんなんで ぜんぶ
たべました。のこりは なんこでしょう。




しき ($3 - 3 = 0$) こたえ (0 こ)



がつ 日にち


なまえ

1 のこりは いくつに なるでしょう。

- (1)  くんが  を 9こ もっています。  ちゃんに 3こ あげました。のこりは いくつでしょう。



しき $(9 - 3 = 6)$ ことえ $(6こ)$

- (2)  が 10こ ありました。3こ たべました。
のこりは なんこに なるでしょう。

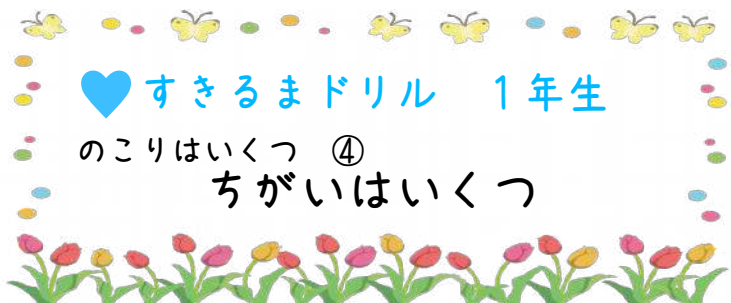
しき $(10 - 3 = 7)$ ことえ $(7こ)$

- (3) こどもが 6にん います。おとこのこは 3にんです。
おんなのこは なんにんいるでしょう。

しき $(6 - 3 = 3)$ ことえ $(3にん)$

- (4) くじが 8ぽん あります。あたりは 2ほんです。
はずれは なんぽん ありますか。

しき $(8 - 2 = 6)$ ことえ $(6ぽん)$



がつ 日にち

なまえ

1

どれだけおおく ちがいは いくつでしょう。

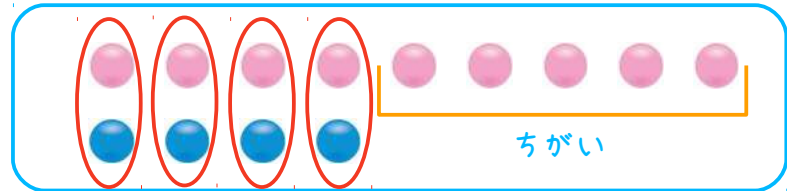
(1) ^{びーだま} を じゅんばんに で かこんでみましょう。



は 6 こ は 4 こ

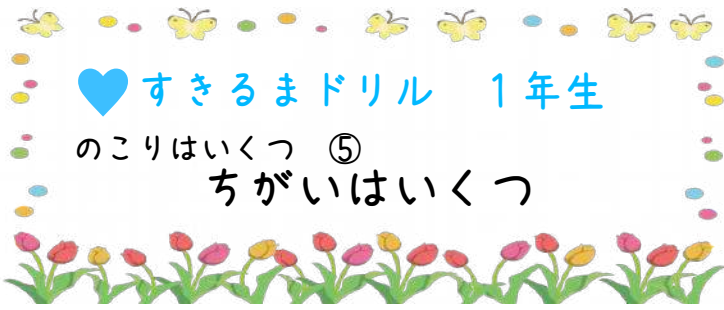
しき $6 - 4 =$ 2 **こたえ** (2 こ)

(2) を じゅんばんに で かこんでみましょう。



は 9 こ は 4 こ




しき (9 - 4 = 5) **こたえ** (5 こ)




がつ にち



なまえ

1 どれだけ おおく ちがいは いくつになるでしょう。


- (1)  ちゃんが  を 7こ  くんは 5こ
もっています。はなちゃんは、まるくんより
なんこ おおく もっているでしょう。


しき $7 - 5 = 2$ 2 こたえ (2こ)



- (2)  が 5こ ありました。  が 4こ ありました。
ちがいは なんこに なるでしょう。

しき ($5 - 4 = 1$) こたえ (1こ)



- (3)  どうぶつの ほんが 4さつ、 しょくぶつの ほんが
6さつ あります。どちらが どれだけ おおい?

しき ($6 - 4 = 2$) こたえ (2さつ)

(しょくぶつ) の  が (2さつ) おおい