

3 イベント


月 日



だっしゅつ ①

なまえ \_\_\_\_\_

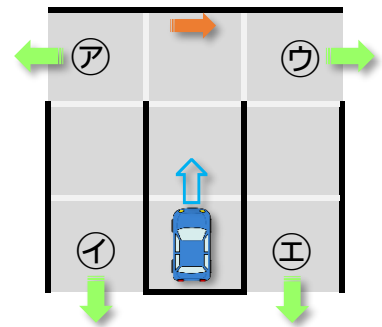



ロボットの <sup>くるま</sup>  を うごかして ①～⑤の <sup>でぐち</sup> 出口に  
むかきましょう。

くるまは まっすぐにしか すすめません。  
かべに あたったら つぎの めいれいの  
とおりに うごきます。

<sup>みぎ</sup>  
右を むく

どの 出口に たどりつきますか。  
①～⑤から えらびましょう。

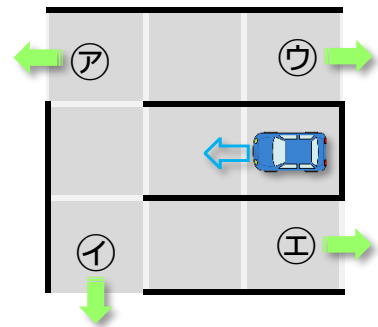
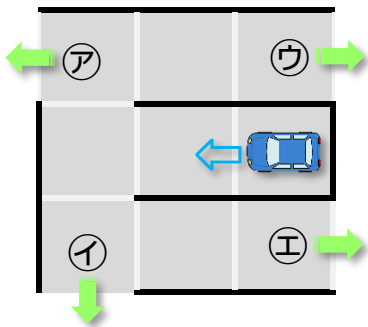


(1)

<sup>みぎ</sup>  
右を むく

(2)

<sup>ひだり</sup>  
左を むく





3 イベント


月 日



だっしゅつ ③

なまえ \_\_\_\_\_



ロボットの <sup>くるま</sup>  を うごかして ㉠～㉤の <sup>でぐち</sup> 出口に  
むかきましょう。

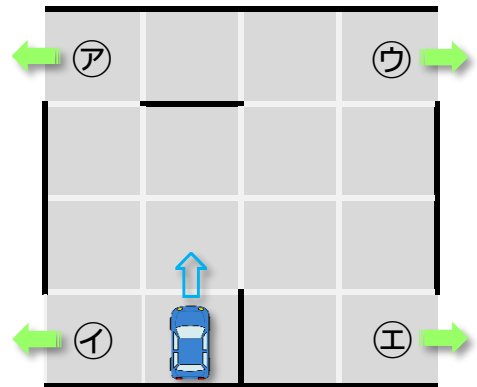
くるまは まっすぐにしか すすめません。かべに あたったら  
つぎの めいれいの とおりに うごきます。

(1)

右を むく

どの 出口に たどりつきますか。  
㉠～㉤から えらびましょう。

㉣

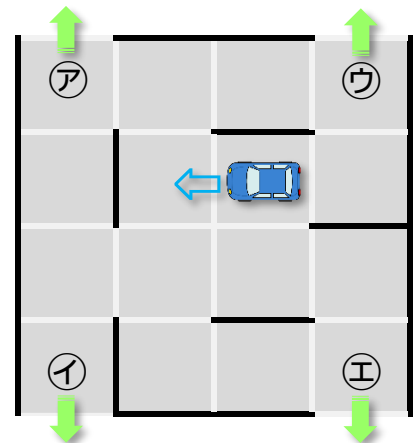


(2)

左を むく

どの 出口に たどりつきますか。  
㉠～㉤から えらびましょう。

㉡

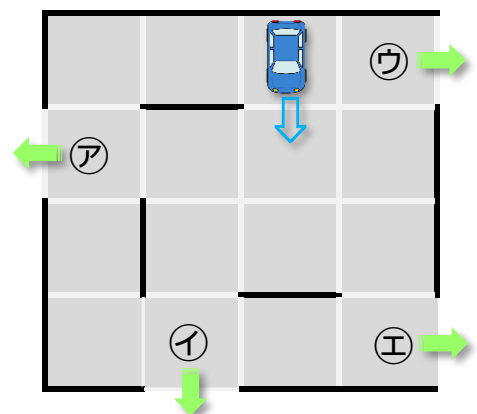


(3)

右を むく

どの 出口に たどりつきますか。  
㉠～㉤から えらびましょう。

㉣





3 イベント


月 日



だっしゅつ ⑤

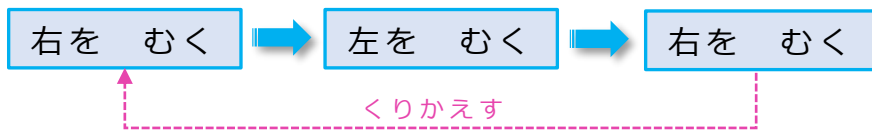
なまえ



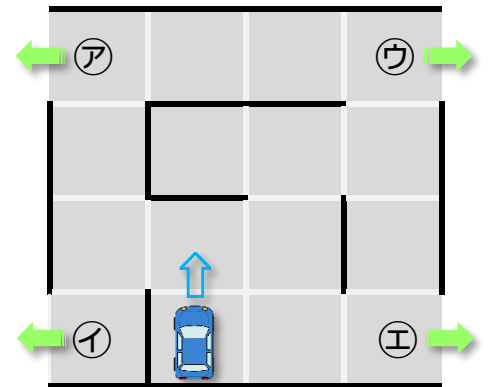
ロボットの <sup>くるま</sup>  を うごかして ㉠～㉤の <sup>でぐち</sup> 出口に  
むかきましょう。

くるまは まっすぐにしか すすめません。かべに あたるたびに  
つぎの めいれいを じゅんばんに くりかえしていきます。

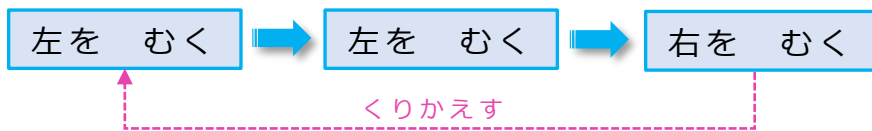
(1)



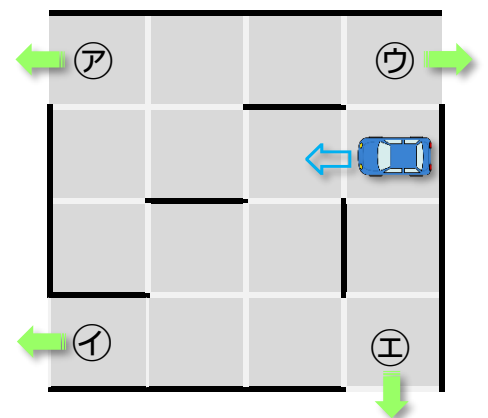
どの 出口に たどりつきますか。  
㉠～㉤から えらびましょう。



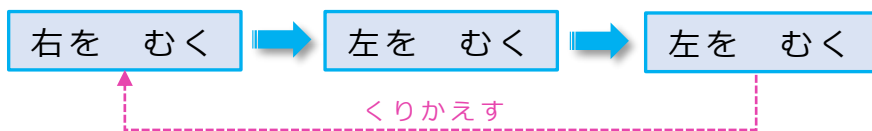
(2)



どの 出口に たどりつきますか。  
㉠～㉤から えらびましょう。



(3)



どの 出口に たどりつきますか。  
㉠～㉤から えらびましょう。

