

1

くらべてみよう
かさくらべ

べんきょうした日 月 日
なまえ

学習目安時間 10分

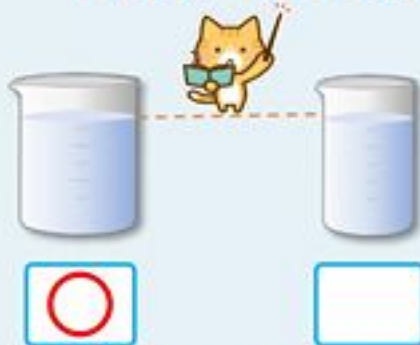
どちらが おおい くらべてみよう

たかさが ちがうね



おおい ほうに Oを つけよう。

たかさが おなじだね



おおい ほうに Oを つけよう。

1 はいっている みずが いちばん おおいは
あ, い, う の どれですか。



2 あ, い の どちらが おおく はいりますか。



2

くらべてみよう
かさくらべ

べんきょうした日 月 日
なまえ

学習目安時間 10分

みずが おおく はいるのは

あ  →  コップで **7** はい

い  →  コップで **9** はい

(い) の ほうが  で **2** はいぶん おおい



コップの かずで くらべて いるよ。

1 はいる みずが いちばん おおいは

あ, い, う の どれですか。



(い)



2 あ, い の どちらに みずが おおく はいりますか。



(い)

コップの数が多いほうに、水が多く入る。

3

くらべてみよう
かさくらべ

べんきょうした日 月 日
なまえ

学習目安時間 15分

1 おおい じゆんに きごうを かきましょう。

1

ア イ ウ エ オ カ

エ → ア → オ → カ → イ → ウ



2

ア イ ウ エ オ カ

ア → イ → カ → ウ → オ → エ

2 おなじ コップに みずを いました。つぎの もんだいを あ, い, う, で こたえましょう。

あ い う

1 みずが いちばん おおく はいっている びんは どれですか。 (う)

2 みずが ちょうど コップ 1ぱいぶん はいっている びんは どれですか。 (い)

4

くらべてみよう
かさくらべ



学習目安時間 15分

1 おなじだけ ^{みず}水が ^{はい}入って います。いれものが 大きい
じゆんに きごうを かきましょう。



いれもののおおきさと
みずのはいっている
りょうを まちがえないでね



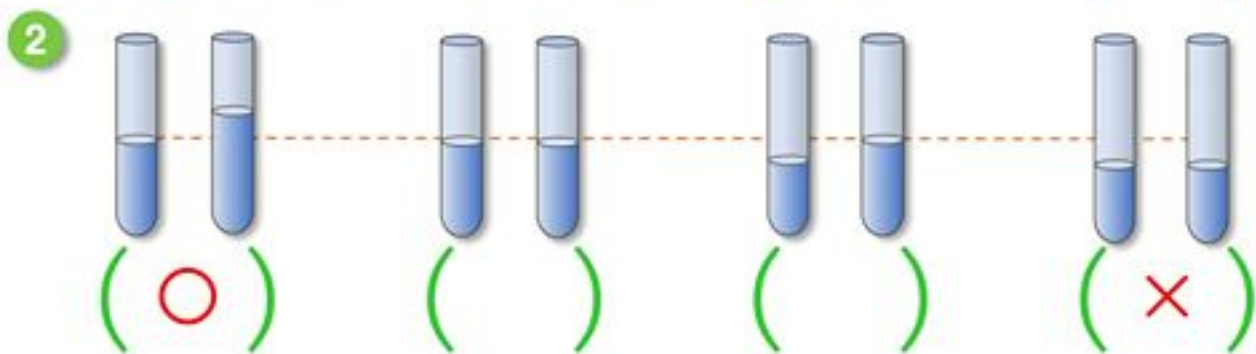
2 あわせると 水が いちばん おおいものに ○, いちばん
すくないものに × を つけましょう。



()

(○)

(×)

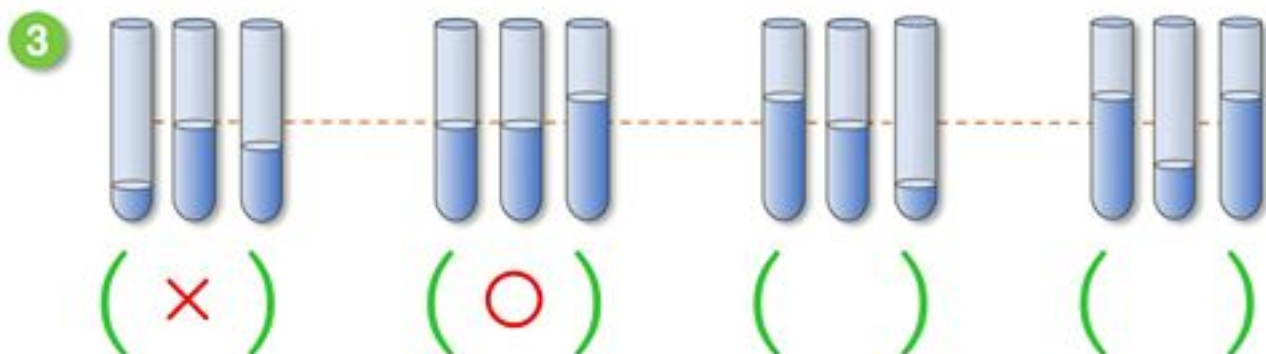


(○)

()

()

(×)



(×)

(○)

()

()

5

くらべてみよう
かさくらべ

べんきょうした日 月 日
なまえ

学習目安時間 15分

1 あてはまる きごうを かきましょう。



- 1 いちばん おおく 入る 入れものは **ア** です。
- 2 3ばんめに すくない 入れものは **ウ** です。
- 3 アの はんぶんの 入れものは **エ** です。
- 4 オの 2つぶんの 入れものは **ウ** です。
- 5 エと オを あわせた 入れものは **イ** です。

2 あ の 入れものは, い の 入れものの なんこぶん ありますか。

1

あ  い 

2 こぶん

2

あ  い 

3 こぶん

6

くらべてみよう
かさくらべ

べんきょうした日 月 日
なまえ

学習目安時間 15分

1 あ, いの入れものに水がいっぱい入っています。どちらに水がおおく入っているかくらべましょう。

あ



い



1 くらべるほうほうで、ただしいくらべかたには○をまちがっているくらべかたには×をつけましょう。

1. どちらかの入れものをからにして、もうひとつの入れものの水を入れてくらべる。 (○)
2. いろいろな大きさのコップに水を入れてなんばいぶんかでくらべる。 (×)
3. 大きいおなじ入れものに水をうつしてたかさをくらべる。 (○)
4. 小さなおなじ入れものに水をうつしてはやくあふれたかでくらべる。 (×)

2 あはコップで9はい, いはコップで12はい水が入りました。どちらの入れものがなんばいぶんおおきいですか。

しき

$$12 - 9 = 3$$

こたえ

い

の入れものが

3ばい

ぶん

おおきい。