

1

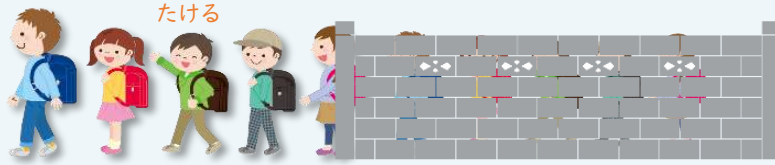
どんなしきになるかな
 ずをつかって
 かんがえよう

べんきょうした日 月 日
 なまえ

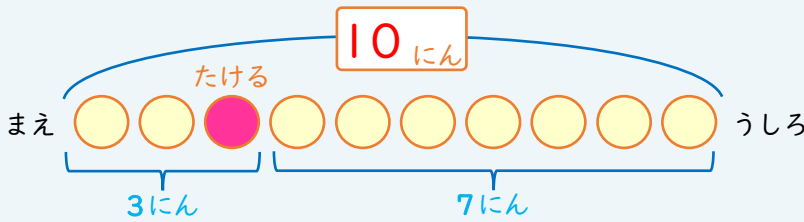
学習目安時間 15分

みんなで なんにん いるでしょう。

たけるさんは まえから 3ばんめです。うしろには 7にん います。



ぜんぶで なんにん いるかな。
 ずをみて 3+7のしきをかんがえよう。

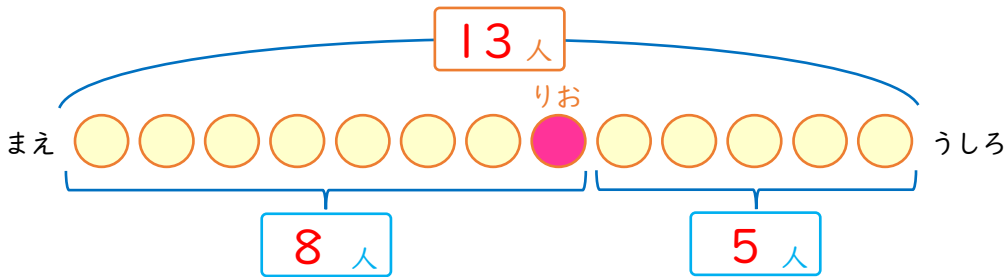


しき $3 + 7 = 10$

こたえ 10 にん

1

りおさんは まえから 8ばんめに います。りおさんのうしろには 5人 います。みんなで なんにん いますか。



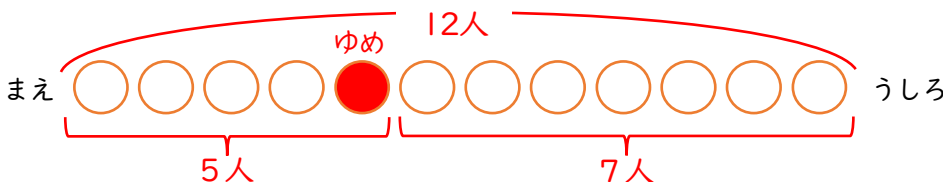
しき $8 + 5 = 13$

こたえ 13 人

2

ゆめさんは まえから 5ばんめに います。ゆめさんのうしろには 7人 います。みんなで なんにん いますか。

ずを かいて みよう。



しき $5 + 7 = 12$

こたえ 12 人

2

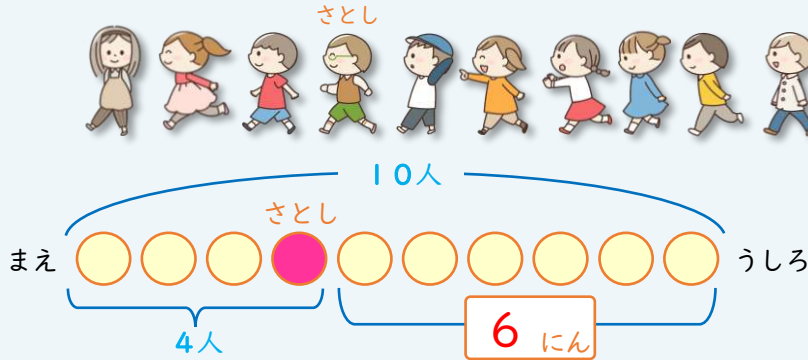
どんなしきになるかな
ずをつかって
かんがえよう

べんきょうした日 月 日
なまえ

学習目安時間 15分

うしろに なん^{にん} いるでしょう。

10人 ならんでいます。さとしさんは まえから 4ばんめです。



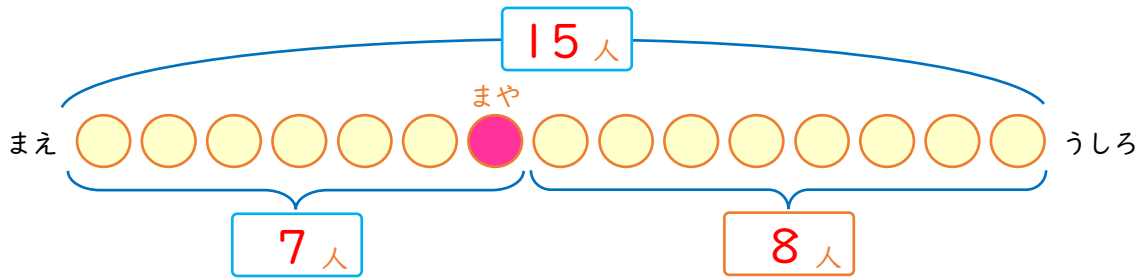
さとしさんの うしろには
なん^{にん} いるかな。
ひきさんの しきを
かんがえよう。



しき $10 - 4 = 6$

こたえ 6 人

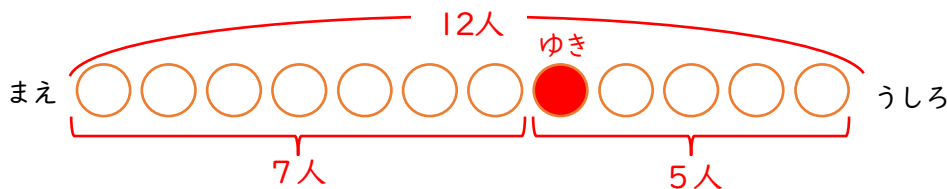
1 15人 ならんで います。まやさんは まえから 7ばんめです。まやさんの うしろに なん^{にん} いますか。



しき $15 - 7 = 8$

こたえ 8 人

2 12人 ならんで います。ゆきさんは うしろから 5ばんめです。ゆきさんの まえに なん^{にん} いますか。



ずを かいて みよう。



しき $12 - 5 = 7$

こたえ 7 人

3

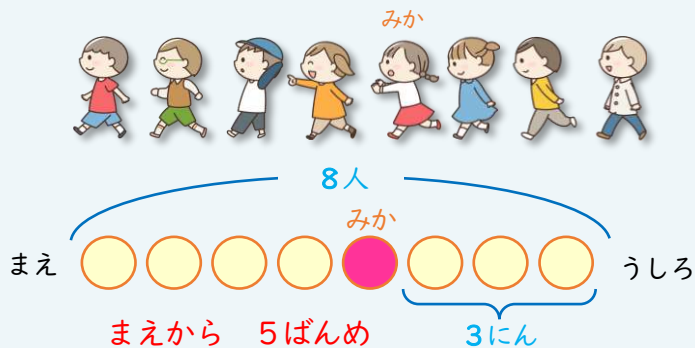
どんなしきになるかな
ずをつかって
かんがえよう

べんきょうした日 月 日
なまえ

学習目安時間 15分

まえから なんばんめでしょう。

8人 ならんでいます。みかさんの うしろには 3人 います。



みかさんは まえから
なんばんめ?
ひきさんの しきを
かんがえよう。



しき

$$8 - 3 = 5$$

こたえ

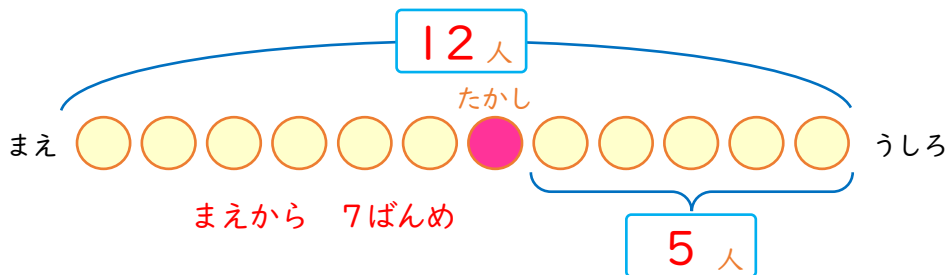
まえから

5

ばんめ

1

12人 ならんで います。たかしさんの うしろには 5人 います。たかしさんは まえから なんばんめですか。



しき

$$12 - 5 = 7$$

こたえ

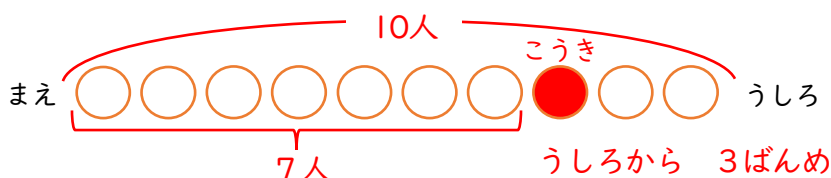
まえから

7

ばんめ

2

10人 ならんで います。こうきさんの まえには 7人 います。こうきさんは うしろから なんばんめですか。



ずを かいて みよう。



しき

$$10 - 7 = 3$$

こたえ

うしろから

3

ばんめ

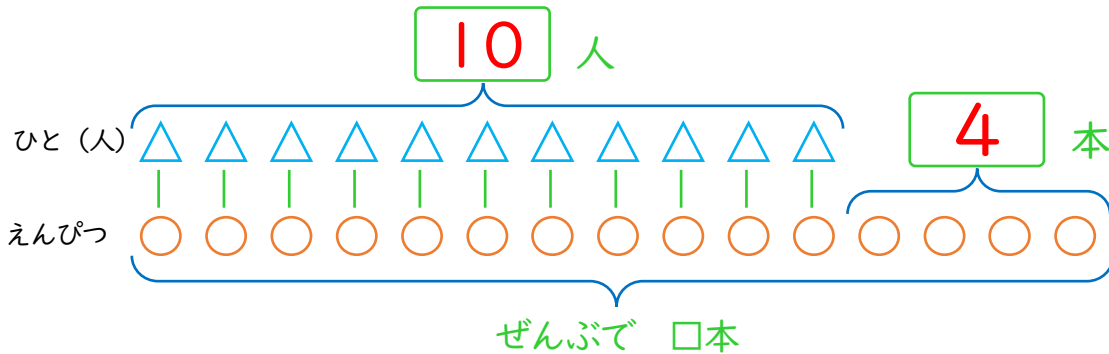
4

どんなしきになるかな
ずをつかって
かんがえよう

べんきょうした日 月 日
なまえ

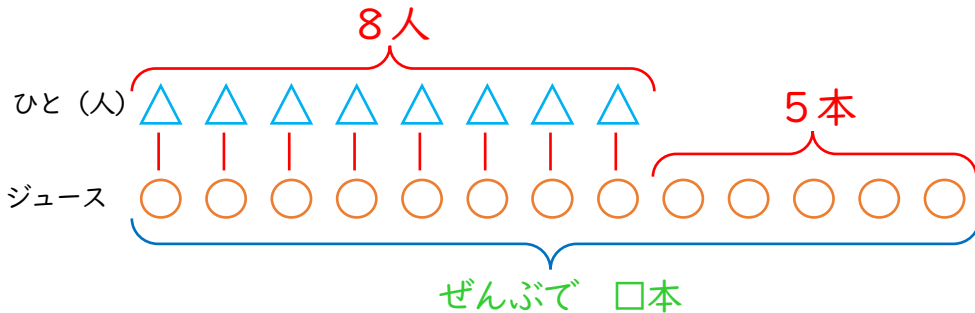
学習目安時間 15分

1 10人が えんぴつを 1本ずつ もらいます。
えんぴつは 4本 のこりました。えんぴつは
ぜんぶで なん本 ありますか。



しき $10 + 4 = 14$ こたえ 14本

2 8人が ジュースを 1本ずつ のみます。
ジュースは 5本 のこりました。ジュースは
ぜんぶで なん本 ありますか。

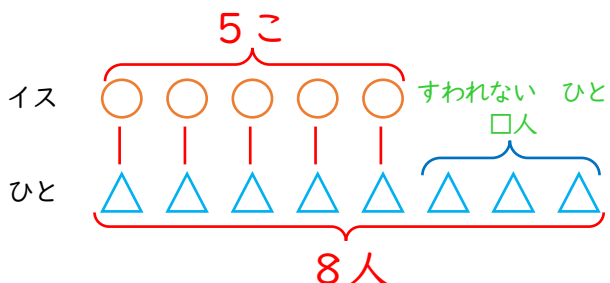


ずを かいて みよう。



しき $8 + 5 = 13$ こたえ 13本

3 イスが 5こ あります。8人が 1こずつ すわろうと
しています。すわれない ひとは なん人ですか。



しき $8 - 5 = 3$ こたえ 3人

5

どんなしきになるかな

ずをつかって

かんがえよう

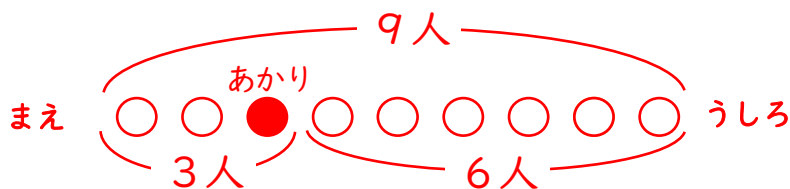
べんきょうした日 月 日
なまえ

学習目安時間 15分

1 あかりさんは まえから 3ばんめに います。あかりさんの うしろには 6人 います。みんなで なん人 いますか。ずも かきましょう。

ず

例



もんだいを ずに
あらわして かんがえる
ことが できるかな。



しき

$$3 + 6 = 9$$

こたえ

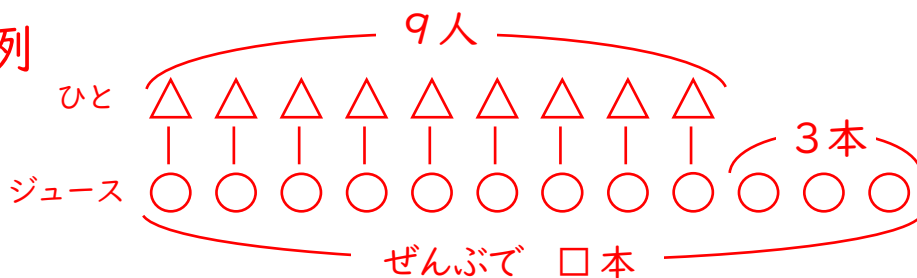
(9人)

2 9人が ジュースを 1本ずつ のみます。ジュースは 3本 のこりました。ジュースは ぜんぶで なん本 ありますか。ずも かきましょう。

△は「ひと」、○は「ジュース」で ずを かきましょう。

ず

例



しき

$$9 + 3 = 12$$

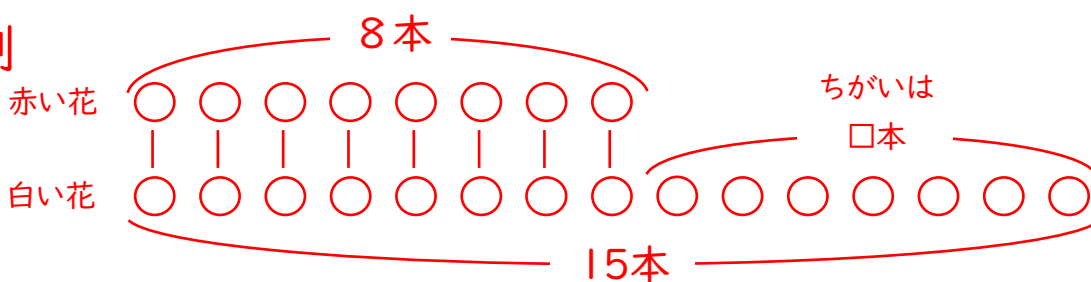
こたえ

(12人)

3 ^{あか}赤い花が 8本, ^{はな}白い花が 15本 ^{しろ}さいています。どちらが なん本 おおいですか。ずも かきましょう。

ず

例



しき

$$15 - 8 = 7$$

こたえ

白い 花が,
7 本 おおい

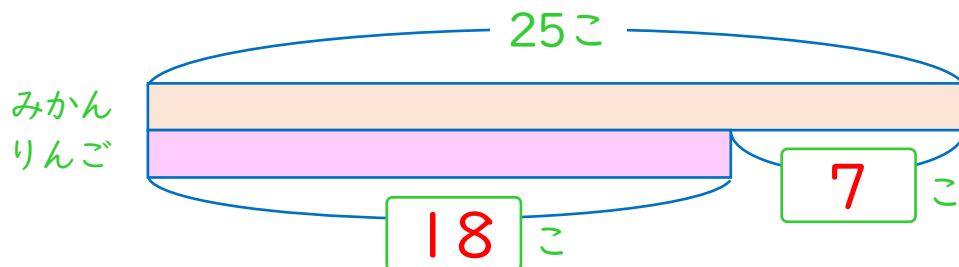
6

どんなしきになるかな
ずをつかって
かんがえよう

べんきょうした日 月 日
なまえ

学習目安時間 15分

- 1 みかんが 25こ あります。りんごは みかんより 7こ すくないです。りんごは なんこ ありますか。

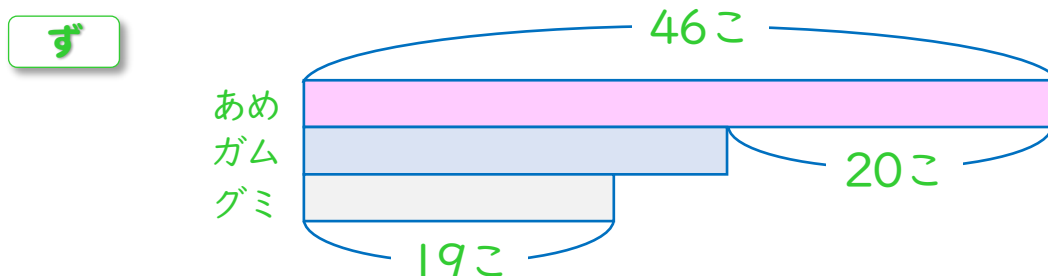


テープの ながさで
かずを あらわして
いるよ。



しき $25 - 7 = 18$ ことえ (18こ)

- 2 ずを みて、つぎの もんだいに ことえましょう。



- 1 ガムの かずは なんこ ですか。

しき $46 - 20 = 26$ ことえ (26こ)

- 2 ガムは グミより なんこ おおいですか。

しき $26 - 19 = 7$ ことえ 7こ おおい

- 3 ずを みて ただしい ぶんしょうに ○を、まちがって いる ぶんしょうには ×を つけましょう。

あめが 46こ あります。
ガムは あめより 26こ
すくなく、グミより 7こ
おおいです。

×

あめが 46こ あります。
ガムは あめより 20こ
すくなく、グミより 7こ
おおいです。

○

どんなしきになるかな

スキルマ問題

べんきょうした日 月 日
なまえ

学習目安時間 20分

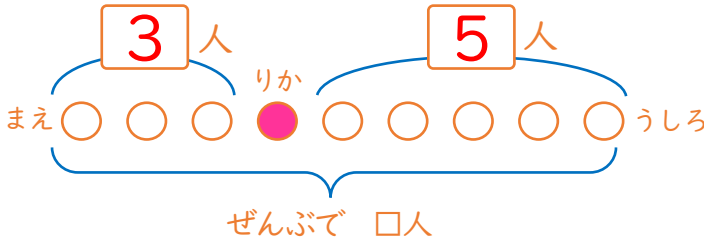
7

ずをつかって かんがえよう

1 バステいに ^{ひと}人が ^{にん}ならんで います。りかさんの まえに 3人、りかさんの うしろに 5人 います。ぜんぶで なん人 ^{にん}ならんで いますか。



たし算の足す順序は、変えてもOK

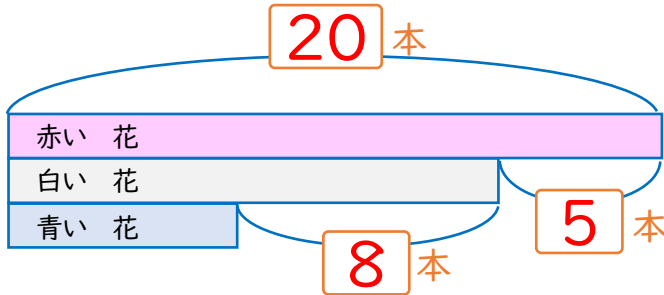


しき

$$3 + 1 + 5 = 9$$

こたえ (9人)

2 ^{あか}赤い花が ^{はな}20本、^{ほん}白い花は ^{しろ}赤い花より 5本 ^{すくなく}すくなく ^{あお}青い花より 8本 ^{おおいです}おおいです。青い花は なん本 ^{あります}ありますか。



しき

$$20 - 5 - 8 = 7$$

こたえ (7本)

3 はるかさんは 10さいです。あねは はるかさんより 5さい ^{としうえ}年上で、おかあさんより 20さい ^{としした}年下です。

1 おかあさんの ^{とし}年の ^{かず}かずに □として、ずを かきましょう。

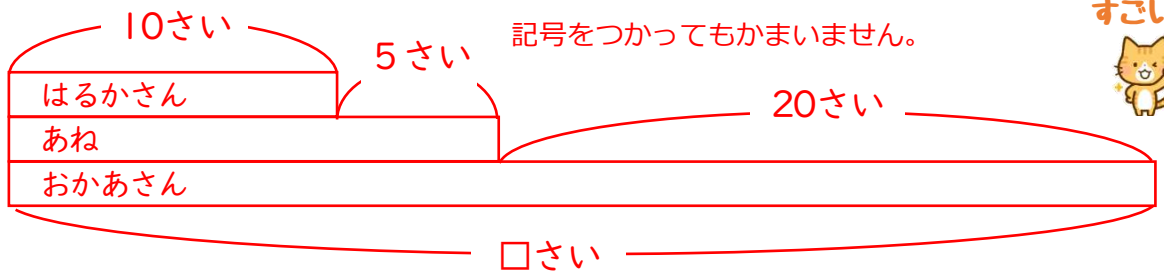
ず

図は、テープをつかっても、○や△など 記号をつかってもかまいません。

できたら すごい!



例



2 おかあさんは なんさい ですか。

しき

$$10 + 5 + 20 = 35$$

こたえ (35さい)

8

どんなしきになるかな

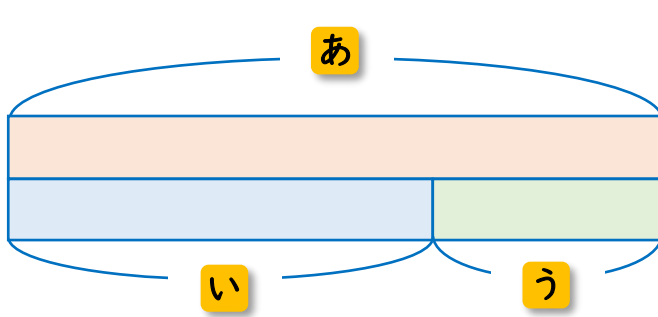
スキルマ問題

ずをつかって
かんがえよう

べんきょうした日 月 日
なまえ

学習目安時間 20分

1 したの ずを みて, どんな しきを かんがえる ことが できますか。 に あてはまる あ ~ う を かきましょう。

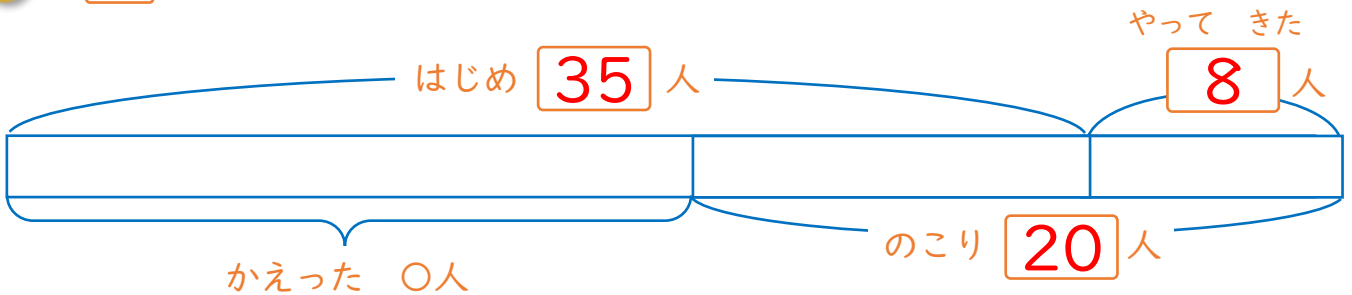


(う+い)

$$\begin{aligned} \text{あ} &= \boxed{\text{い}} + \boxed{\text{う}} \\ \text{い} &= \boxed{\text{あ}} - \boxed{\text{う}} \\ \text{う} &= \boxed{\text{あ}} - \boxed{\text{い}} \end{aligned}$$

2 こうえんに 子どもが 35人 います。そこへ 子どもが 8人 やって きました。そのあと なんんか かえったので 20人に なりました。

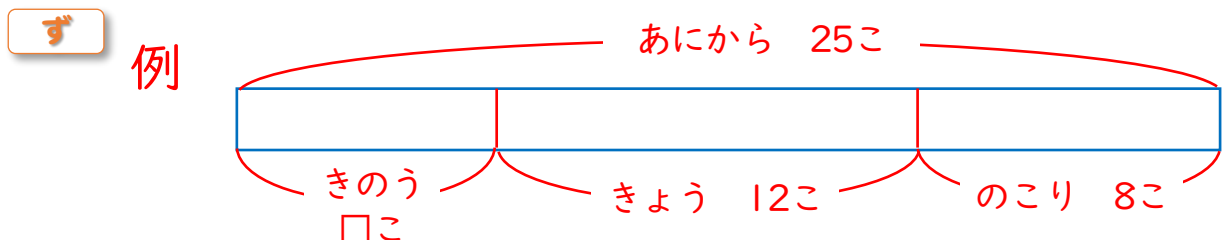
1 に あてはまる かずを かきましょう。



2 かえった 子どもは なん人ですか。

しき $35 + 8 - 20 = 23$ ことえ (23人)

3 ゆうきさんは, グミを あにから 25こ もらい, そのうち きのう なんこか たべました。きょうは 12こ たべて, 8こ のこりました。きのう なんこ たべましたか。



しき $25 - 12 - 8 = 5$ ことえ (5こ)