

1

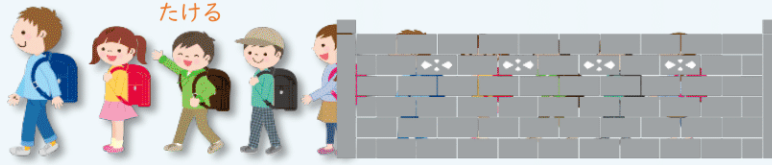
どんなしきになるかな
ずをつかって
かんがえよう

べんきょうした日 月 日
なまえ

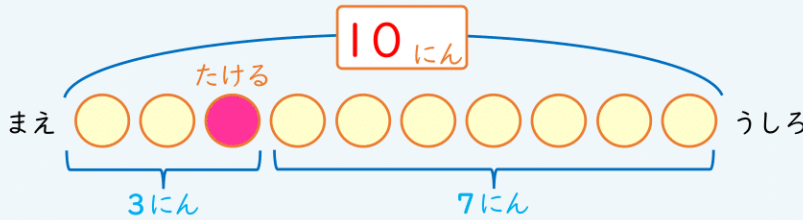
学習目安時間 15分

みんなで なんにん いるでしょう。

たけるさんは まえから 3ばんめです。うしろには 7にん います。



ぜんぶで なんにん いるかな。
ずをみて 3+7のしきをかんがえよう。

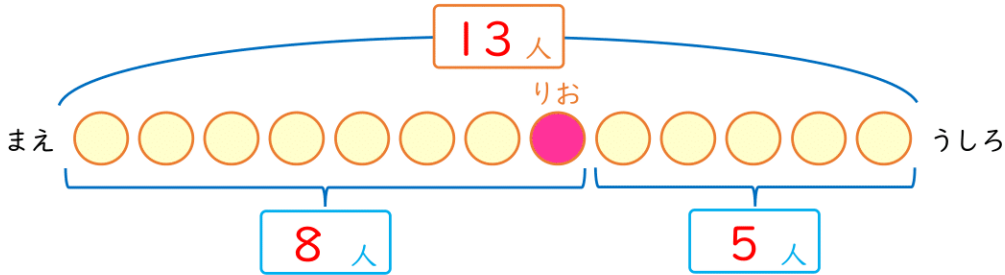


しき $3 + 7 = 10$

こたえ 10 にん

1

りおさんは まえから 8ばんめに います。りおさんの
うしろには 5人 います。みんなで なんにん いますか。

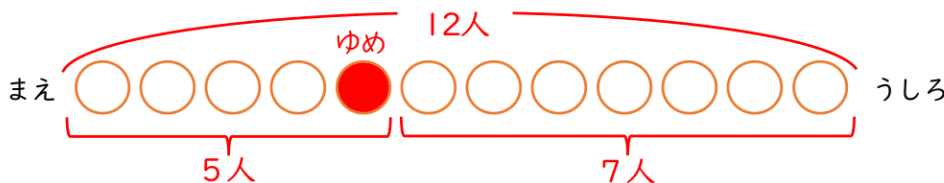


しき $8 + 5 = 13$

こたえ 13 人

2

ゆめさんは まえから 5ばんめに います。ゆめさんの
うしろには 7人 います。みんなで なんにん いますか。



ずを かいて みよう。



しき $5 + 7 = 12$

こたえ 12 人

2

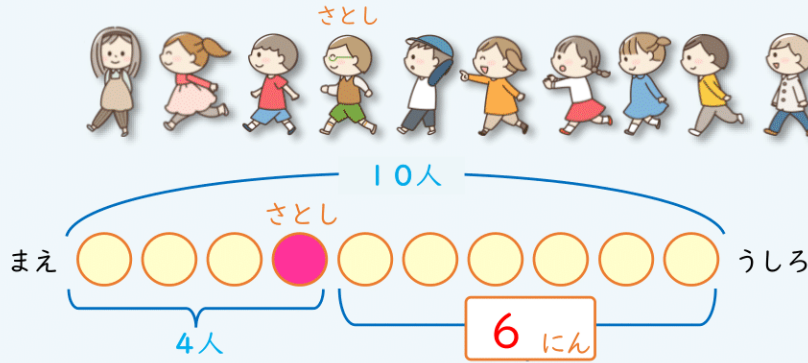
どんなしきになるかな
ずをつかって
かんがえよう

べんきょうした日 月 日
なまえ

学習目安時間 15分

うしろに なん^{にん} いるでしょう。

10人 ならんでいます。さとしさんは まえから 4ばんめです。



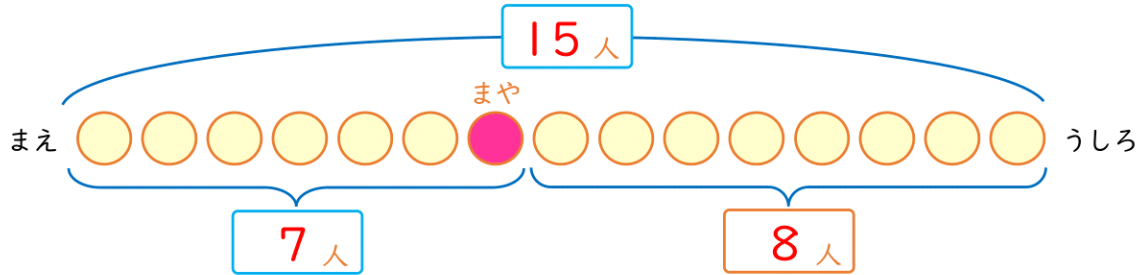
さとしさんの うしろには
なん^{にん} いるかな。
ひきさんの しきを
かんがえよう。



しき $10 - 4 = 6$

こたえ 6 人

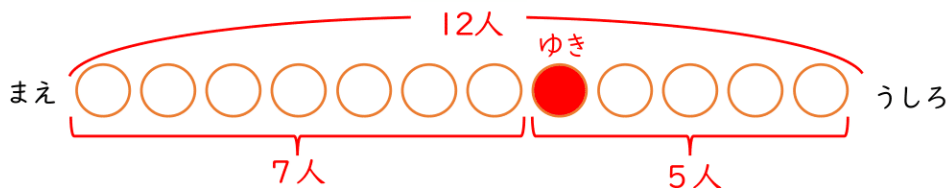
1 15人 ならんで います。まやさんは まえから 7ばんめです。まやさんの うしろに なん^{にん} いますか。



しき $15 - 7 = 8$

こたえ 8 人

2 12人 ならんで います。ゆきさんは うしろから 5ばんめです。ゆきさんの まえに なん^{にん} いますか。



ずを かいて みよう。



しき $12 - 5 = 7$

こたえ 7 人

3

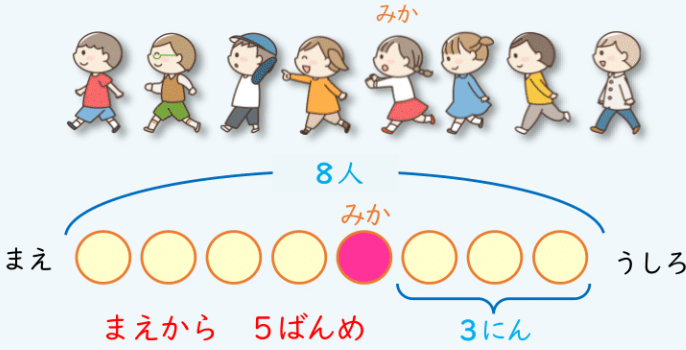
どんな しきになるかな
ずをつかって
かんがえよう

べんきょうした日 月 日
なまえ

学習目安時間 15分

まえから なんばんめでしょう。

8人 ならんでいます。みかさんの うしろには 3人 います。



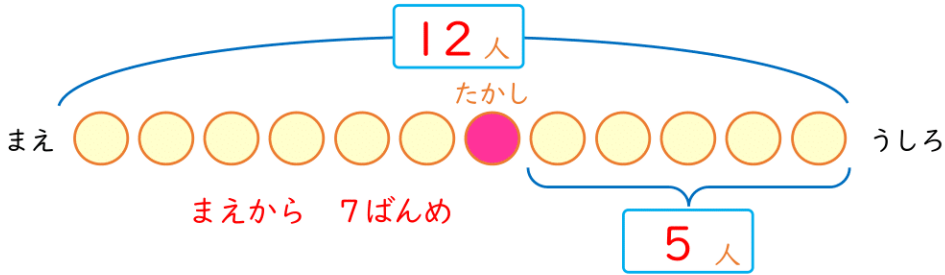
みかさんは まえから
なんばんめ?
ひきさんの しきを
かんがえよう。



しき $8 - 3 = 5$

こたえ まえから 5 ばんめ

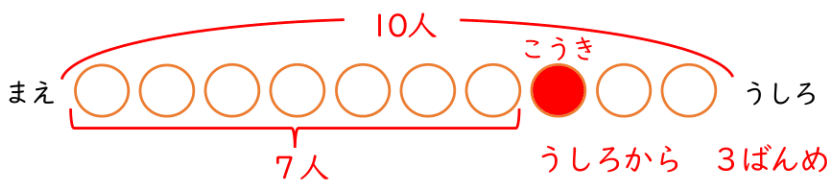
1 12人 ならんで います。たかしさんの うしろには 5人 います。たかしさんは まえから なんばんめですか。



しき $12 - 5 = 7$

こたえ まえから 7 ばんめ

2 10人 ならんで います。こうきさんの まえには 7人 います。こうきさんは うしろから なんばんめですか。



ずを かいて みよう。



しき $10 - 7 = 3$


こたえ うしろから 3 ばんめ

4

どんなしきになるかな

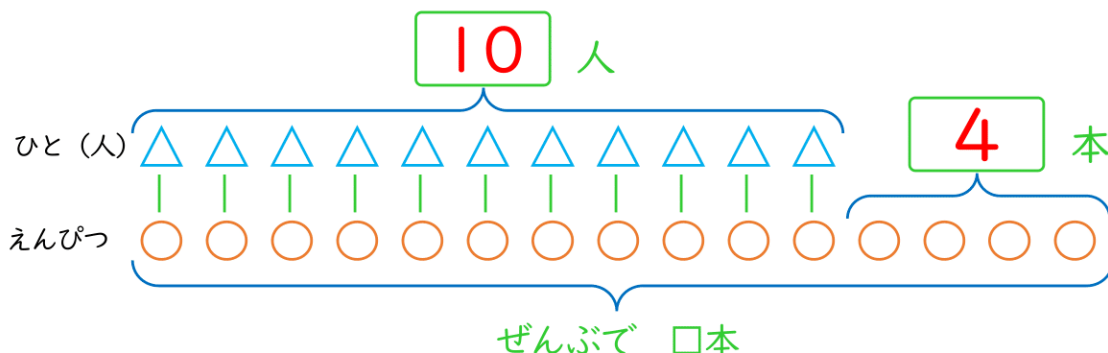
ずをつかって

かんがえよう



学習目安時間 15分

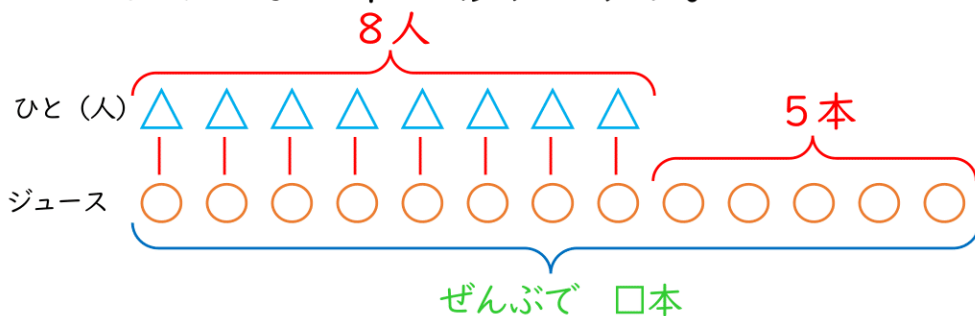
1 10人が えんぴつを 1本ずつ もらいます。
えんぴつは 4本 のこりました。えんぴつは
ぜんぶで なん本 ありますか。



しき $10 + 4 = 14$

こたえ 14本

2 8人が ジュースを 1本ずつ のみます。
ジュースは 5本 のこりました。ジュースは
ぜんぶで なん本 ありますか。



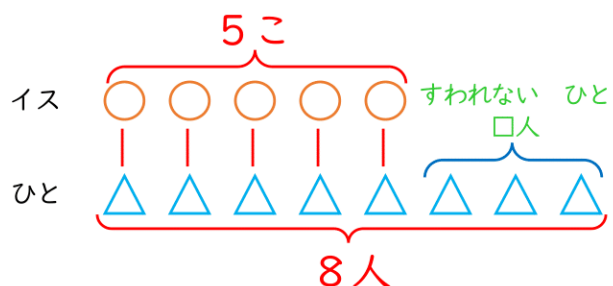
ずを かいて みよう。



しき $8 + 5 = 13$

こたえ 13本

3 イスが 5こ あります。8人が 1こずつ すわろうと
しています。すわれない ひとは なん人ですか。



しき $8 - 5 = 3$

こたえ 3人

5

どんなしきになるかな
ずをつかって
かんがえよう

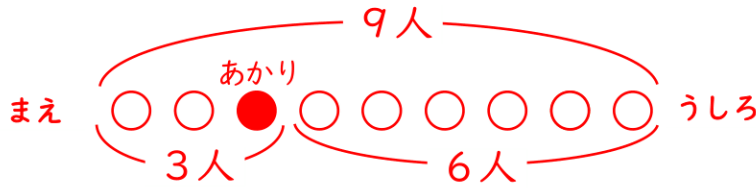


学習目安時間 15分

1 あかりさんは まえから 3ばんめに います。あかりさんの うしろには 6人 います。みんなで なん人 いますか。ずも かきましょう。

ず

例



もんだいを ずに
あらわして かんがえる
ことが できるかな。



しき

$$3 + 6 = 9$$

こたえ

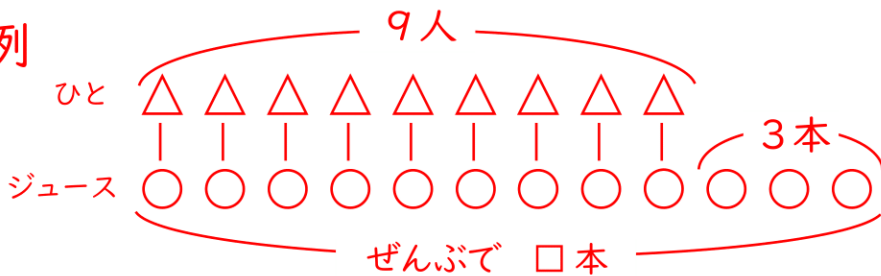
(9人)

2 9人が ジュースを 1本ずつ のみます。ジュースは 3本 のこりました。ジュースは ぜんぶで なん本 ありますか。ずも かきましょう。

△は「ひと」、○は「ジュース」で ずを かきましょう。

ず

例



しき

$$9 + 3 = 12$$

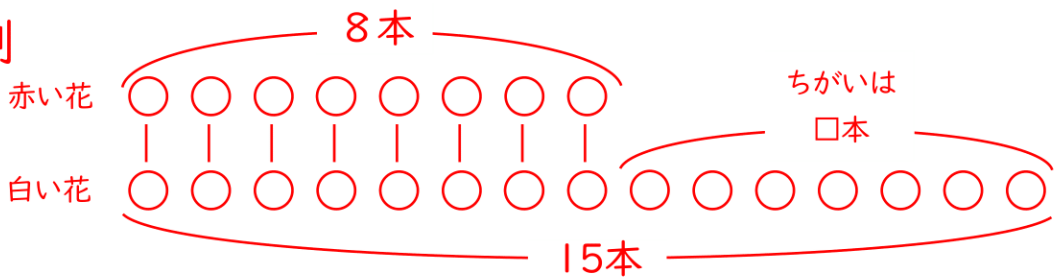
こたえ

(12本)

3 赤い花が 8本, 白い花が 15本 さいています。どちらが なん本 おおいですか。ずも かきましょう。

ず

例



しき

$$15 - 8 = 7$$

こたえ


白い 花が,
7 本 おおい

6

どんなしきになるかな

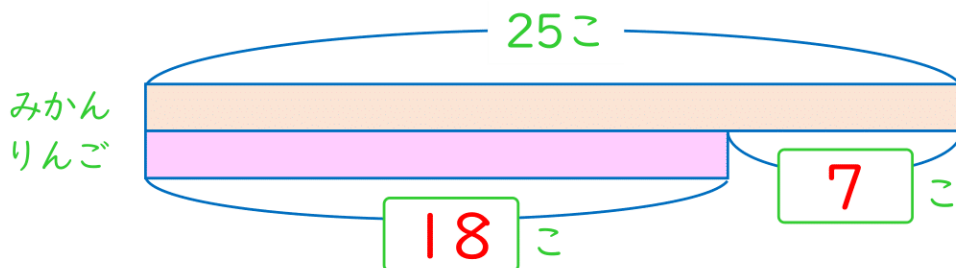
ずをつかって

かんがえよう



学習目安時間 15分

- 1 みかんが 25こ あります。りんごは みかんより 7こ すくないです。りんごは なんこ ありますか。



テープの ながさで かずを あらわしているよ。



しき

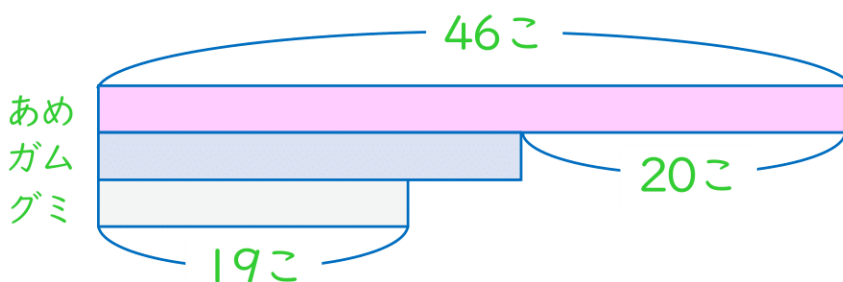
$$25 - 7 = 18$$

こたえ

(18こ)

- 2 ずを みて、つぎの もんだいに こたえましょう。

ず



- 1 ガムの かずは なんこ ですか。

しき

$$46 - 20 = 26$$

こたえ

(26こ)

- 2 ガムは グミより なんこ おおいですか。

しき

$$26 - 19 = 7$$

こたえ

7こ おおい

- 3 ずを みて ただしい ぶんしょうに ○を、まちがって いる ぶんしょうには ×を つけましょう。

あめが 46こ あります。
ガムは あめより 26こ
すくなく、グミより 7こ
おおいです。

×

あめが 46こ あります。
ガムは あめより 20こ
すくなく、グミより 7こ
おおいです。

○

7

どんなしきになるかな **スキルマ問題**
ずをつかって
かんがえよう

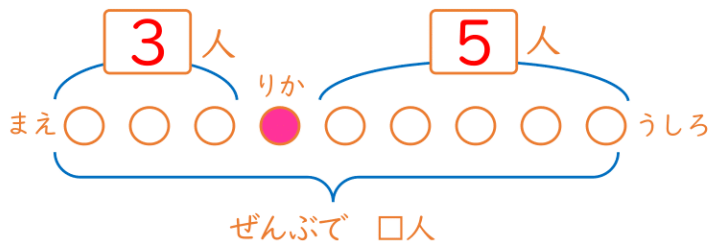
べんきょうした日 月 日
 なまえ

学習目安時間 20分

1 バスでいに ^{ひと}人が ^{りか}ならんで います。りかさんの ^{まえ}まえに ^{にん}3人、りかさんの ^{うしろ}うしろに ^{にん}5人 います。ぜんぶで ^{にん}なん人 ^{ならんで}ならんで いますか。



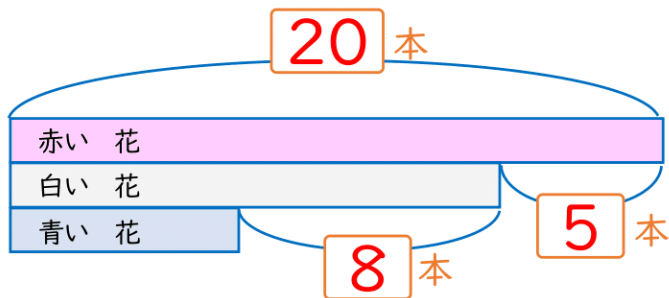
たし算の足す順序は、変えてもOK



しき $3 + 1 + 5 = 9$

こたえ (9人)

2 ^{あか}赤い花が ^{はな}20本、^{はな}白い花は ^{ほん}赤い花より ^{しろ}5本 ^{すくなく}すくなく ^{あお}青い花より ^{ほん}8本 ^{おおいです}おおいです。青い花は ^{ほん}なん本 ^{あります}ありますか。



しき $20 - 5 - 8 = 7$

こたえ (7本)

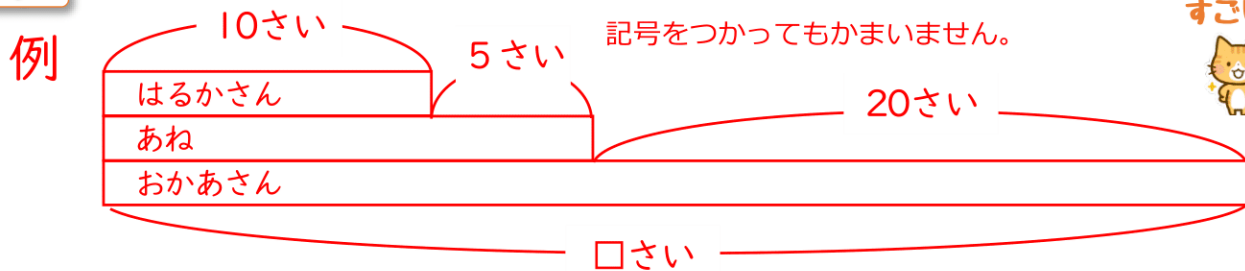
3 はるかさんは ^{とし}10さいです。あねは ^{とし}はるかさんより ^{とし}5さい ^{とし}年上で、おかあさんより ^{とし}20さい ^{とし}年下です。

1 おかあさんの ^{とし}年の ^{かず}かずを □として、ずを かきましょう。

ず

図は、テープをつかっても、○や△など記号をつかってもかまいません。

できたら
すごい!



2 おかあさんは ^{とし}なんさい ^{ですか}ですか。

しき $10 + 5 + 20 = 35$

こたえ (35さい)

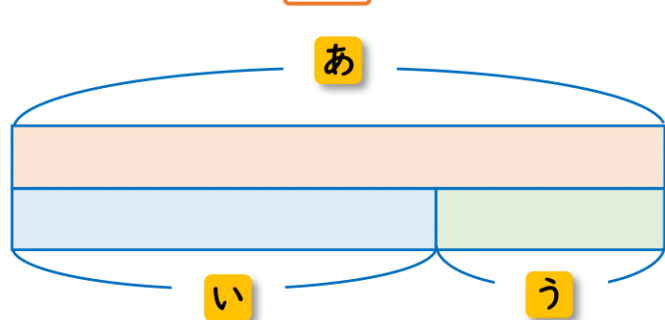
8

どんなしきになるかな **スキルマ問題**
ずをつかって
かんがえよう

べんきょうした日 月 日
 なまえ

学習目安時間 20分

1 したの ずをみて、どんなしきをかんがえることができますか。□にあてはまる **あ** ~ **う** をかきましょう。



(う+い)

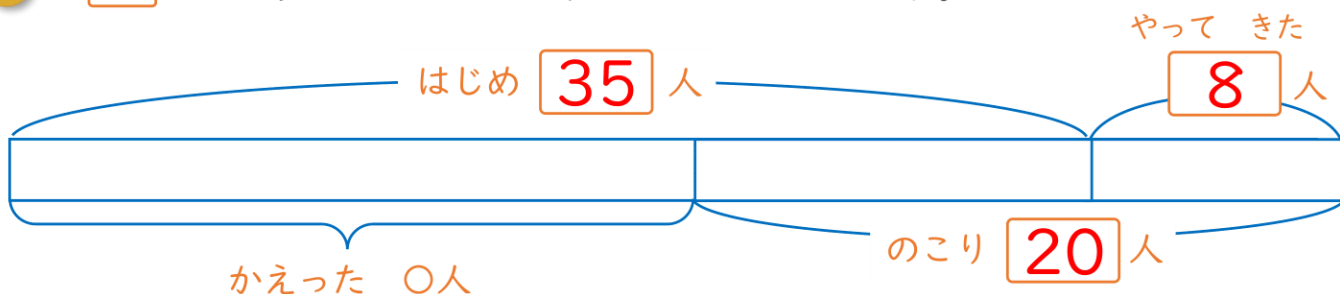
あ = **い** + **う**

い = **あ** - **う**

う = **あ** - **い**

2 こうえんに子どもが35人います。そこへ子どもが8人やってきました。そのあとなん人がかえったので20人になりました。

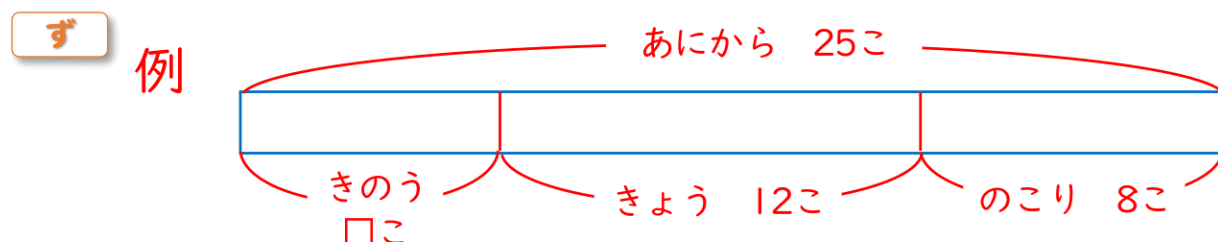
1 □にあてはまるかずをかきましょう。



2 かえった子どもはなん人ですか。

しき $35 + 8 - 20 = 23$ **こたえ** (23人)

3 ゆうきさんは、グミを あにから 25こ もらい、そのうちきのう なんこか たべました。きょうは 12こ たべて、8こ のこりました。きのう なんこ たべましたか。



しき $25 - 12 - 8 = 5$ **こたえ** (5こ)