


1

なんじ なんぷん

べんきょうした日 月 日
なまえ

学習目安時間 15分

なんじ なんぷん ですか。



15



みじかい はりが 6と7の あいだで

6じ

ながい はりが 15で

15ふん



みじかい はりは 「0じ」、
ながい はりは 「0ふん」と よむよ！
1つの めもりは 「1ふん」だね。

1

とけいを よみましょう。



8じ5ふん



10じ20ふん



3じ36ふん



12じ35ふん

べんきょうした日 月 日
なまえ

学習目安時間 15分

2

なんじ なんぷん

ながい はりを かきましょう。



ながい はりが
1と2の
あいだ だね。



なぞりましょう!



ながい はりが
7の
ところ だね。



10じ8ぷん

10じ35ぷん

↑ やじるしを つかって ながい はりを かきましょう。



ながい はり は 「なんぷん」
みじかい はりは 「なんじ」 だったよね。

1

ながい はりを かきましょう。

1 5じ5ぷん



2 11じ40ぷん



3 8じ24ぷん



4 12じ55ぷん



5 12じ27ぷん



6 9じ13ぷん




べんきょうした日 月 日
なまえ


学習目安時間 15分

3 なんじ なんぷん

1 とけいを よみましょう。




9じ25ぶん




1じ49ぶん




10じ2ぶん



6じ51ぶん



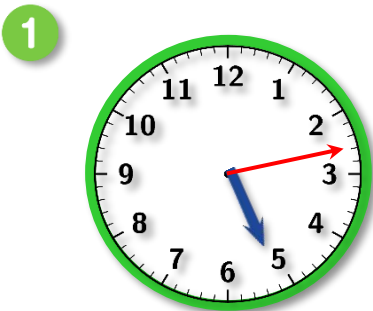
8じ44ぶん



12じ10ぶん

2 とけいの はりを かきましょう。

5じ13ぶん



11じ32ぶん



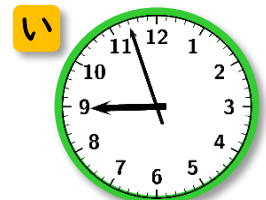
8じ45ぶん



3 9じ57ぶんの とけいは あ い の どちらですか。



(あ)



4

なんじ なんぷん

べんきょうした日 月 日
なまえ

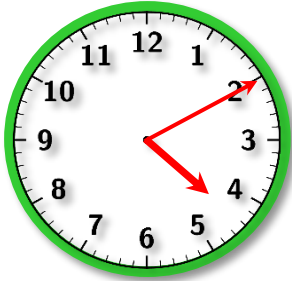
学習目安時間 15分

1

とけいの はりを かきましょう。

短い針は、○と○の間に描かれていれば正解とします。

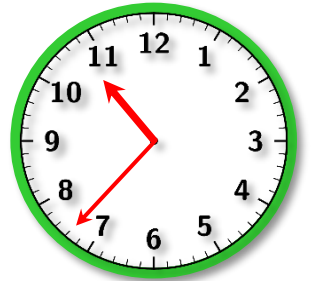
1 4じ10ぶん



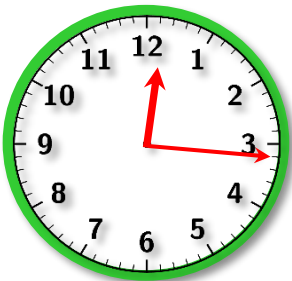
2 8じ25ぶん



3 10じ37ぶん



4 12じ16ぶん



5 6じ1ぶん



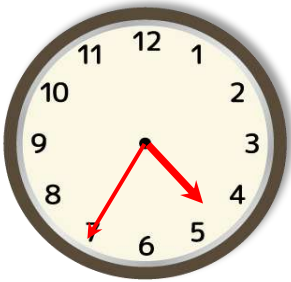
6 2じ58ぶん



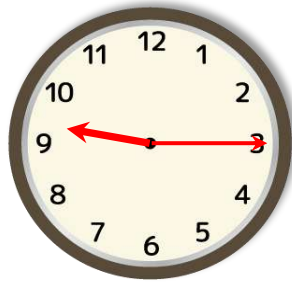
2

したの とけいをみて、うえの とけいの はりを かきましょう。

1



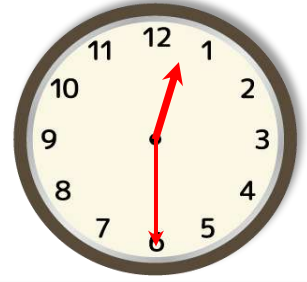
2



3

へやの とけいは なんじ なんぷん?

例



かいてみよう!



すうじの とけい よめるかな?