

1

かたちづくり

べんきょうした日 月 日
なまえ



学習目安時間 15分

なんまいで できますか。

したの かたちは、**あ**の いろいろが なんまいで できますか。

あ

いろいろに
せんを かくと
わかりやすいね。



① まい ② まい ③ まい

1 したの かたちは の いろいろを なんまい
つかって いますか。

1 まい

2 まい

3 まい

2 **あ**の いろいろが なんまいで できますか。

あ

① まい ② まい ③ まい

2

かたちづくり

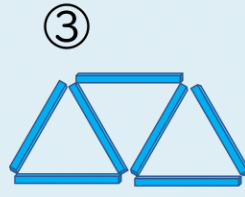
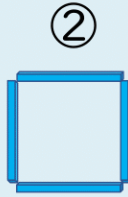
べんきょうした日 月 日
なまえ



学習目安時間 15分

なんぼんで できますか。

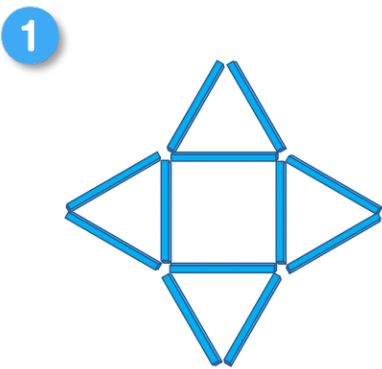
したの かたちは、かぞえぼう の ぼうが ほん 本で できますか。



ぼうを ならべると
いろいろな かたちが
できるね。



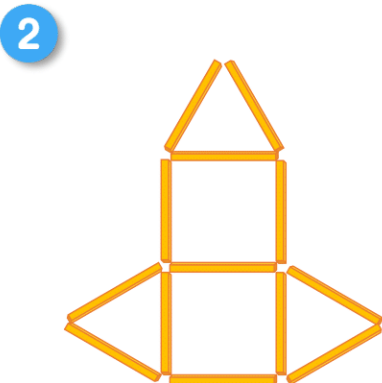
1 の ぼうで いろいろな かたちを つくりました。
かたちは それぞれ なんこ ありますか。また つかった
ぼうの かずは なん本 ありますか。



の かたちが こ

の かたちが こ

の かずは 本



の かたちが こ

の かたちが こ

の かずは 本

べんきょうした日 月 日
なまえ

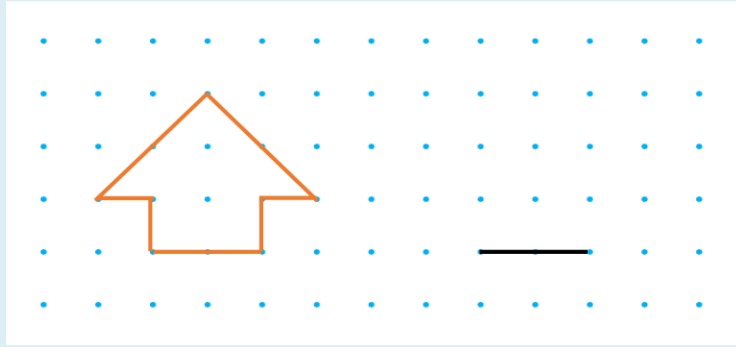


学習目安時間 15分

3

かたちづくり

おなじ かたちを かきましょう。



てんと てんを せんで
つないでも かたちを
つくりかことが できるよ。



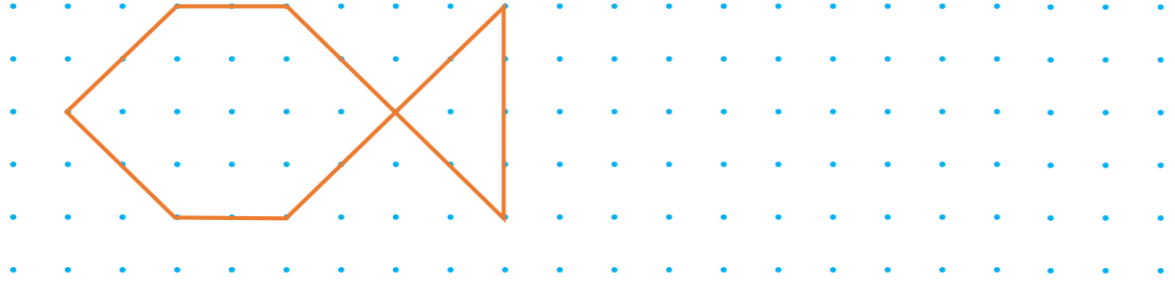
1

おなじ かたちを みぎに かきましょう。

1




2



2

すきな かたちを いろいろ かいてみよう。



かたちの
なまえも
おしえてね。



4

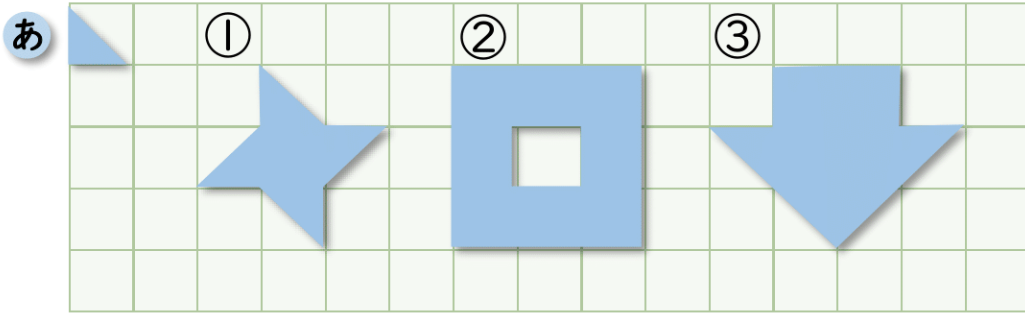
かたちづくり

べんきょうした日 月 日
なまえ



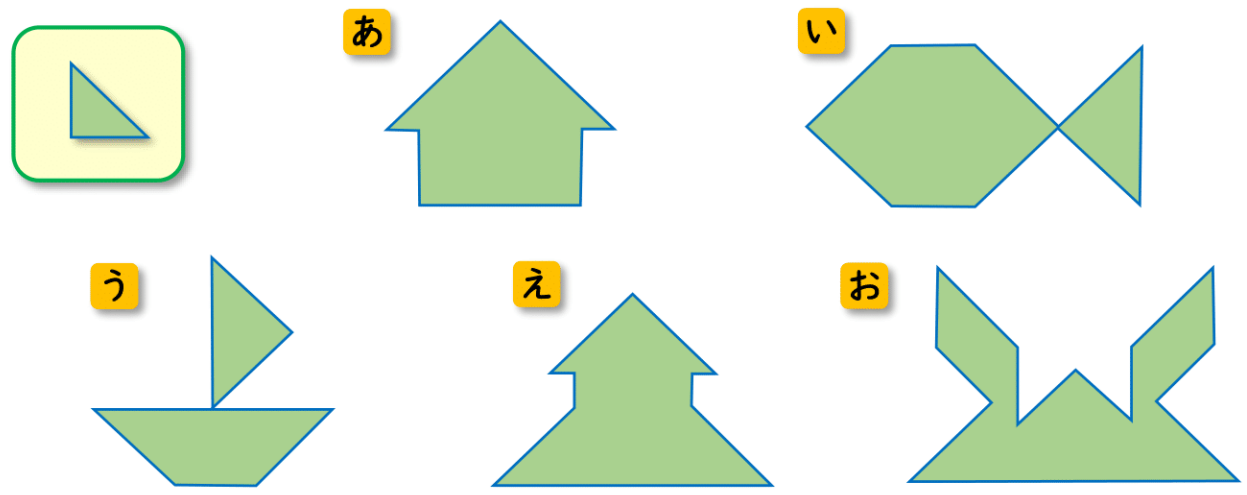
学習目安時間 20分

1 したの かたちは、 **あ** の いろいろたが なんまいで
できますか。



① まい ② まい ③ まい

2 さんかくの いろいろたを ならべて、 **あ** ~ **お** の
かたちを つくりました。



1 の ならべかたが わかるように、 **あ** ~ **お** に
せんを かきましょう。

2 おなじ まいすうの を つかって できた かたちは、
どれと どれですか。2つ こたえましょう。

(と) (と)


5

かたちづくり

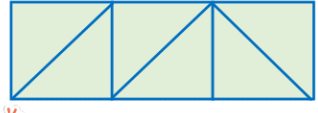
べんきょうした日 月 日
なまえ




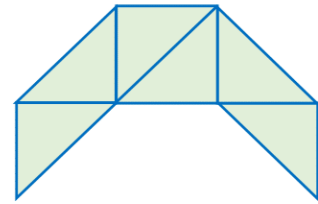
学習目安時間 20分

1  を 2まい うごかして みぎの かたちに しました。
うごかした いろいろに Oを つけましょう。

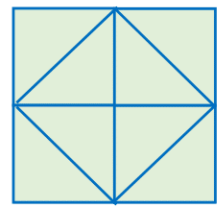
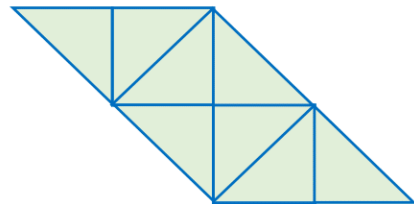
1



 うごかした いろいろに Oを つけてね。






2







2 てんと てんをつないで、それぞれ ちがう かたちをかきましょう。

1 ましかくを 3つ かきましょう。



2 さんかくを 5つ かきましょう。




6

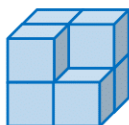
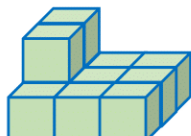
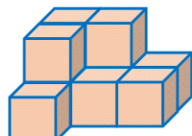
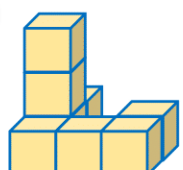
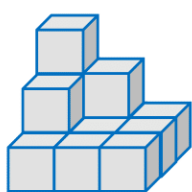
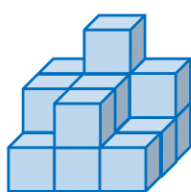
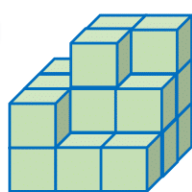
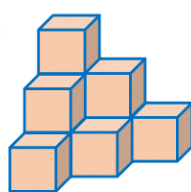
かたちづくり


べんきょうした日 月 日
なまえ


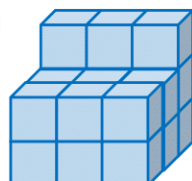
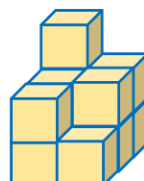
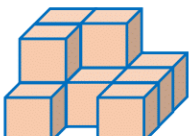



学習目安時間 20分


1  の つみ木を なんこ つかって いますか。
つかっている かずを かきましょう。

1  <input type="text"/> こ	2  <input type="text"/> こ	3  <input type="text"/> こ	4  <input type="text"/> こ
5  <input type="text"/> こ	6  <input type="text"/> こ	7  <input type="text"/> こ	8  <input type="text"/> こ

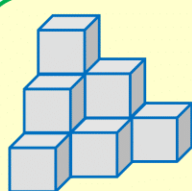
2 ひだりの つみきに するには、あと なんこ 
たりませんか。

	1  <input type="text"/> こ	2  <input type="text"/> こ	3  <input type="text"/> こ
---	--	---	--

3 みぎからみて かくれて
みえない つみ木は、
なんこ ありますか。 

みぎ 

←


 こ